

中学校第二学年 国語 調査票

( ) 組 ( ) 番 氏名 ( )

注意 1 はじめに放送を聞いて答える問題があります。必要なことは、左の読家名が作ったメモの空欄にメモをとるながら聞きましょう。

2 放送聞いたあと、先生から「短②」の台詞がありますので、それまで次のページ以降は聞かないでください。

1 放送による聞き取りの概況

田中さんのメモ

地球の温暖化の影響

観衆したという

山本さんのメモ

地域の緑化運動について

観衆したという

木村さんのメモ

江戸時代の暮らし

観衆したという

中国—1

2 次の一、二に答えなさい。

- 一 次の(1)～(3)の 一 線部の漢字の読みをひらがなで書きなさい。
- (1) 彼を字**教**長に**擲**す。
- (2) 天を仰い**ど**なる。
- (3) 牙**刺**を借**し**む。

- 二 次の(1)～(3)の 一 線部のカタカナの部分**標**語で漢字に書き改めなさい。
- (1) 平入タイチキな例をあげろ。
- (2) 長髪をシヨウカイする。
- (3) 前岩をイトナむ。

中国—2

3 次の文章を読んで、一、二に答えなさい。

浦島太郎の亀①いぢやう、「汝②生有るものの中にも、鶴は千年、亀は万年とて、命久しきものなり。ならまふらうして命をたたら事、いたはしければ、助けるなり。常にはこの恩を思ひ出さずと」とて、この亀をもとの海にかへしける。

【現代語訳】

浦島太郎がこの亀に向かい、「そもそも、命のあるものの中にも、鶴は千年、亀は万年とて、寿命が長いものだ。今でこそ命を奪うことはかわいさなもので、助けるのだ。日ごと、この恩を思い出すがよい。」と、この亀をもとの海へ返した。

(浦島太郎「浦島太郎」より)

- 一 本文中①いぢやうを現代かなづかいに直して、ひらがなで書きなさい。
- 二 本文中いたはしければの意味を、【現代語訳】の中から抜き出して書きなさい。

4 次の文章を読んで、1～4に答えなさい。

調査時には、111に問題文が入る

中国—3

中国—4

1 本文中「目ざつたくつた」とは、ここではどのような感情で使われていますか。次のア～エから1つを選び、その記号を書きなさい。

- ア 見えな物事を悪い方に思つてしまうこと。      イ まだ見ないのに思つてしまうこと。  
ウ 自分自身の能力が無いと思つて。                  エ 目にしたところが信じられないと思つて。

2 本文中「あらけならぶうきをまをさひ」とありましたが、このほくの行動の理由として最も適切なものを、次のア～エから1つを選び、その記号を書きなさい。

- ア せつなく思つてはたこやば、逃げられならぬにやるため。  
イ 土煙をよぶ人の、コエの存在を知られぬにやるため。  
ウ はるるらとふるまふながらも、できるだけ静穏に行動するため。  
エ 周囲にうそをいふと、気持ちよく無難にまわらぬため。

3 本文中「寝せに選いちもう……」で使われている表現の手法について適切なものを、次のア～エから1つを選び、その記号を書きなさい。

- ア 比喩法      イ 倒置法      ウ 借題法      エ 反復法

四 本文中「赤いかだまりが矢のまじりに」とありますが、この表現について、次の□のうちに正しいものを一つ選び、a、cに当てはまる語の組み合わせとして適切なものを、次のア～エから一つ選び、その記号を書きなさい。

「べンゴイ(紅鯉)を「赤いかだまり」と表現しているのは、aからです。また「矢のまじりに」だから、b、cは適当で、aとcの組み合わせが正解です。


- ア a 魚はならぬかもしれないと思った      b 大回りして      c まろまぐ  
 イ a 魚が赤くて大きかった      b 頭が細く      c 長めの体で  
 ウ a ばくちが魚として敬慕できなかつた      b ゆつくりと      c 曲線的に  
 エ a ばくちには色と大きさが見えなかつた      b 素早く      c 直線的に

五 本文中「A」「B」に入る会語として適切なものを、次のア～エから一つ選び、その記号を書きなさい。

- ア 何かいたただいて。  
 イ これくらいいい。  
 ウ 黒いかだまりだごた。  
 エ コイかいただか。

六 この本文について、下のような本の帯を作成します。次の(1)、(2)に答えなさい。

- (1) 「a」には、読者を引きつけようとする見出しを書きなさい。  
 右の本文の内容を簡潔に、五十字以上十五字以内に書きなさい。  
 (2) 「b」には、この本を読む読者に内容を紹介する文を書きなさい。  
 右の本文の内容を簡潔に、二十字以上四十字以内に書きなさい。

	[ <u>a</u> ] [ <u>b</u> ]
--	------------------------------

中国—5

5 次の文章を読んで、1～4に答えなさい。(本文中の□、△は本装幀の番号を示し、その下の部分は小見出しである。)

調査時には、□□に問題文が入る

中国—6

調査時には、この期間が長くなる

一 本文中 ①「目をさらに細かく調査調査などのように工夫したが」とありますが、この具体的な工夫の部分を、十字以上二十五字以内で抜き出して書きなさい。

二 本文中 a・b に入る語の組み合わせとして最も適切なものを、次のア～エから一つ選び、その記号を書きなさい。

ア a a そとで b ところが  
 イ a a しかし b また  
 ウ a a ます b 次に  
 エ a a それを b だから

三 本文中 ②「期間的」とありますが、この言葉が修飾している一文を書きなさい。

四 本文中 ③「ポイントで説明された箇」の説明を、次の [ ] のように書きなさい。 [ア]・[イ] のそれぞれに当てはまる語句を書きなさい。

「太陽暦」は、一年を十二月に分けていた。現在私たちが使っている暦と大きく違うのは、一月から十一月までがそれぞれ [ア] であり、十二月は [イ] であるところだ。

五 本文中 ④「天文学が「最古の科学」とありますが、なぜ「最古の科学」といえるのでしょうか。「天文学」「生活」「かならず」という三つの語句を必ず使って、二十五字以上三十五字以内で書きなさい。

六 本文について適切な文として最も適切なものを、次のア～エから一つ選び、その記号を書きなさい。

- ア 「くのよまな」といった比喩表現が多い文章
- イ 「天動説」と天文学の関係について述べた文章
- ウ 数字や題名といった具体例を挙げている文章
- エ 時言がどのようにして作られたかを説明する文章

6 国語の授業で「ふるさとをよめる作文」を書くことになりました。作文を書くのに当たって参考にしたのが、左の『県民だよりあおり』です。これを読んで、一～二に答えなさい。

一 「ふるさとをよめる作文」の題名、下の『県民だよりあおり』の右上「見出しA」を参考として書きなさい。

なお、題名の終りは体言止めにすること。

二 一の題名で「ふるさとをよめる作文」を書きなさい。

なお、次の【条件】ア～ウに従って、書くこと。

【条件】

ア 左の【読み手を意識した表現】の①～④の特徴のいずれかを主とした文章を、必ず一文以上入れること。

なお、①～④の特徴を主とした文に關しては、下の『県民だよりあおり』のように、作文のその部分の右側に線を引くこと。

【読み手を意識した表現】

① 読み手には文章を詳細に書き出している。

② キーワードをまとめて強調している。

③ 読み手と共感し、呼びかける文章である。

注意：右の①～④は、下の『県民だよりあおり』の発言と合っています。

イ 十字以上二十五字以内で書くこと。(句読点を含む)

ウ 一語重複せず、題名や氏名を書かず、原簿無紙の一行から書き始めること。

見出しA

ふるさとをよめる  
青森の冬野菜

寒締めほうれんそう

<寒締めほうれんそうの説明の文>

おいしく食べるコツ

冬野菜の特徴とおいしく食べるコツ

雪中にんじん

<雪中にんじんの説明の文>

おいしく食べるコツ

① 寒気が厳しい冬の青森で、新鮮な野菜がとれるのよ」と思ってもらいたいです。

冬野菜は、収穫まで日数を要しますが、寒ら中でゆっくりと育ちるので、甘み・うまみが増し、栄養価の高い野菜になります。

また、冬は雪害などの被害をふくむため、農産物有回数も少なく、無農薬栽培も行われており、安心も魅力の一つです。

そんな、**「まみ・栄養・安心」**が揃った**「青森冬野菜」**をたどり使った料理を簡単に紹介してみたいと思います。

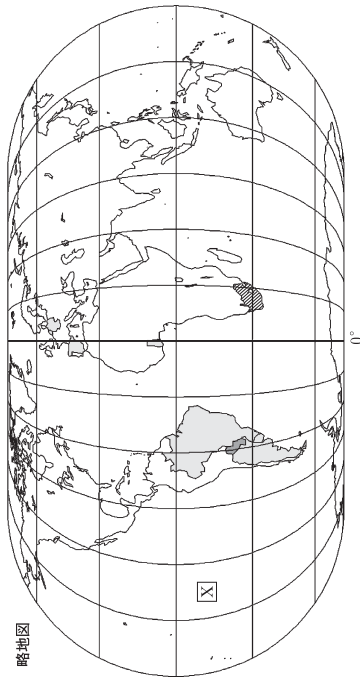
そこで、県産冬野菜の特徴と、おいしく食べるコツを御紹介します。

中学校第2学年 社会 調査票

( ) 組 ( ) 番 氏名 ( )

**1** 次の略地図は、面積が正しくあらわされ、経線と緯線は30°ごとに描かれています。また、略地図中には、昨年行われたサッカーの国際大会（2010 FIFAワールドカップ南アフリカ）の開催国である南アフリカ共和国が斜線で、決勝トーナメント準々決勝に進出したアルゼンチン、ウルグアイ、オランダ、ガーナ、スペイン、ドイツ、ブラジルが○で、パラグアイが●で示されています。次の(1)～(4)に答えなさい。

略地図



- (1) 略地図中Xの海洋名を書きなさい。
- (2) 略地図中の経度Yの経線の名称を書きなさい。
- (3) この国際大会の決勝トーナメント準々決勝に進出した8か国のうち、日本より面積が大きい国の組み合わせとして適切なものをア～エから1つ選んで、その記号を書きなさい。  
ア アルゼンチンとオランダ    イ ブラジルとスペイン  
ウ パラグアイとウルグアイ    エ ドイツとガーナ
- (4) この国際大会が行われた南アフリカ共和国や決勝トーナメント1回戦で日本（標準時の基準となる経線は東経35°）が対戦したパラグアイと日本との時差について、次の①、②に答えなさい。  
① 日本と南アフリカ共和国（標準時の基準となる経線は東経30°）の時差は何時間ですか。  
ア 3時間    イ 4時間    ウ 7時間    エ 9時間  
② 日本とパラグアイ（標準時の基準となる経線は西経60°）の試合は、日本の時間で6月29日午後1時に開始されました。このときのパラグアイの時刻を書きなさい。

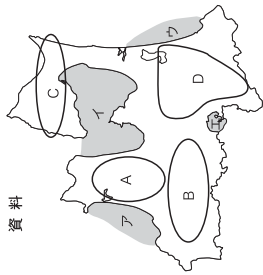
中社一1

**2** 次の資料を見て、(1)～(3)に答えなさい。

- (1) 次の文は、近年、青森県全体の漁獲量が減少傾向にあることから、その対策についてまとめられたものです。( ) に適する語を書きなさい。

青森県では、つくり育てる漁業として、ヒラメやサケなどの( ) 漁業やホタテガイやコブなどの養殖漁業に力を入れています。

- (2) 青森県内でホタテガイの養殖漁業がさかんに行われている場所を、資料中の○の7～エから1つ選んで、その記号を書きなさい。



- (3) 資料中のA～Dの地域の農業について、次の①～④で説明しています。資料中のA～Dの地域のいずれかを1つ選び、その地域の農業についての説明として適切なものを、①～④から1つ選んで、その番号を書きなさい。

- ① この地域は、水はけのよい地形などを利用してたりんごの栽培がさかんで、日本有数の生産量を誇っている。
- ② この地域は、畜産や畑作がさかんで、特にニンニクやナガイモは日本有数の生産量である。
- ③ この地域では、平野が広がり、やませの影響も少なく、米の生産額が多く、青森県を代表する米作地帯となっている。
- ④ この地域は、やませの影響を受けやすく、米や果実の生産額と比較すると畜産の生産額が高い。

**3** 次の資料1～3を見て、(1)、(2)に答えなさい。

資料1



**資料2**  
**A県の特徴**  
・県名と県庁所在地名が同じである。  
・江戸時代以前の旧国名は土佐国である。

- (1) A県は、資料3の5つの県の中の1つです。資料1、資料2を参考にして、A県の県名を資料3から選んで、書きなさい。

- (2) 資料3から読み取れる内容として適切なものを、ア～エから1つ選んで、その記号を書きなさい。

- ア 65歳以上の人口が最も少ないのは、福井県である。
- イ 鳥取県と徳島県の0～14歳の人口は、同じである。
- ウ 高知県の15歳～64歳の人口は50万人を超えている。
- エ 徳島県の65歳以上の人口は、鳥取県の65歳以上の人口より5万人以上多い。

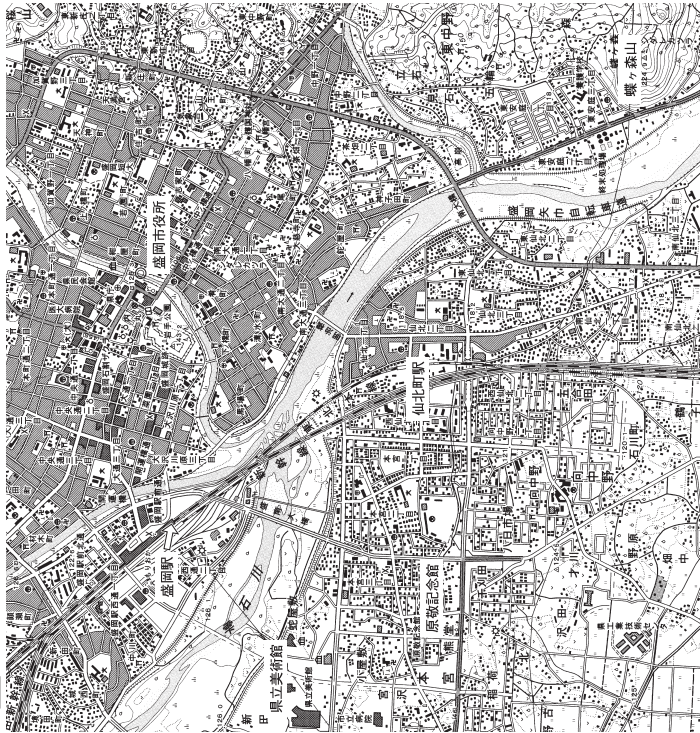
資料3 人口の少ない県

順位	都道府県	人口(万人)	人口構成比(%)
1	鳥取	60	15～64歳 65歳～26
2	鳥根	72	13 58 29
3	高知	77	12 60 28
4	徳島	80	13 61 26
5	福井	81	14 61 25

(全国市町村集計平成22年版等より)

中社一2

4 次の地形図を見て、(1)、(2)に答えなさい。



1:25,000  
盛岡  
(国土地理院発行2万5千分の1地形図「盛岡」より作成)

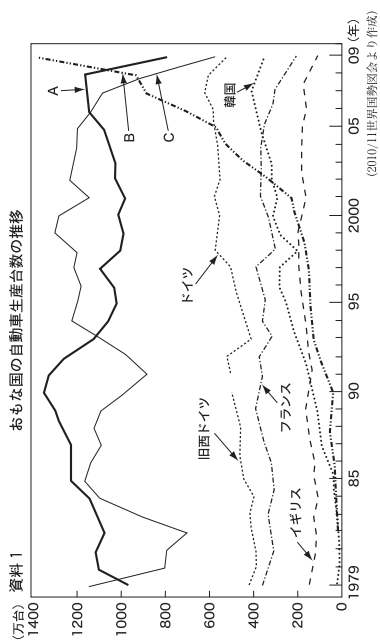
- (1) 地形図から読み取れる内容として適切でないものを、ア～エから1つ選んで、その記号を書きなさい。
- ア 「県立美術館」の東には博物館がある。
  - イ 「盛岡市役所」は「原敬記念館」から見て、北東に位置している。
  - ウ 「藤ヶ森山」の西側の斜面には果樹園が多くある。
  - エ 東北本線で「仙北河駅」から「盛岡駅」に向かう途中、川を渡る手前の荒れ地付近に工場がある。
- (2) 「盛岡駅」と「盛岡市役所」との間の距離は、地図上で約6cmですが、実際の距離に直すと約何mか、書きなさい。

中社一3

5

次の資料1、2を見て、(1)～(3)に答えなさい。

- (1) 資料1から読み取れる内容として適切なものを、ア～エから1つ選んで、その記号を書きなさい。



- (2) 資料2から読み取れる内容として適切なものを、ア～エから1つ選んで、その記号を書きなさい。
- ア 1991年から2001年までの間に、上位3か国の順位は変わっていない。
  - イ 1979年から2009年までの間に、600万台に達したヨーロッパの国は1つもない。
  - ウ フランスは、2000年と2009年を比べると、順位が2つ下がった。
  - エ 韓国は、1995年と2007年を比べると、生産台数が約3倍に増加した。

資料2 2008年のおもな国の自動車に関するデータ

	生産台数(万台)	販売台数(万台)	輸出台数(万台)	人口100人あたりの台数(台)
A	1160	510	680	59
B	950	940	70	2
C	870	1350	200	80
ドイツ	600	340	450	54
韓国	380	120	270	35
フランス	260	260	430	60
イギリス	170	250	130	58
世界計	7080	6310		14

(2010/11世界自動車協会を参照にして作成、数値は概数である)

- (3) 資料1、2のA、B、Cは、アメリカ合衆国、日本、中国のいずれかを表しています。Bの国名を書きなさい。
- ア 生産台数が最も少ない国は、輸出台数も最も少ない。
  - イ ドイツの販売台数は、イギリスの販売台数より約1万台多い。
  - ウ フランスの人口100人あたりの台数は、世界の人口100人あたりの台数の5倍以上である。
  - エ 韓国は、世界に占める生産台数の割合より、世界に占める販売台数の割合が小さい。

中社一4

6 次の年表は、「海をわたった人たちの歴史（主題）」をもとにして、時代の移り変わりをまとめたものです。次の(1)～(3)に答えなさい。

年・時代	海をわたった人たち
— 600	飛鳥
— 800	奈良 平安
— 1000	
— 1200	鎌倉
— 1400	室町
— 1600	安土桃山

(1) 資料1は、年表中のDと関係の深い人物です。この人物名を書きなさい。

資料1  
調査時には、ここに「鑑真」の写真が入る

唐招提寺の国宝

(2) 資料2は、狩野永徳の「唐獅子図屏風」です。この作品がつけられた時代はいつですか。時代名を書きなさい。

資料2  
調査時には、ここに「唐獅子図屏風」の写真が入る

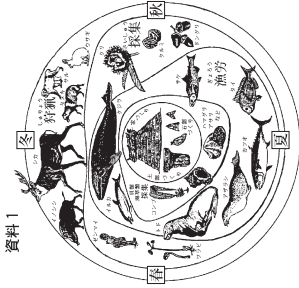
(3) 年表中のA～Dを、時代の古い順に並び替えたものとして適切なものを、ア～エから1つ選び、その記号を書きなさい。

- ア A → D → C → B
- イ D → A → C → B
- ウ D → A → B → C
- エ A → D → B → C

7 次の資料1、2を見て、(1)、(2)に答えなさい。

(1) 資料1は、縄文人の食生活を表した生活カレンダーです。資料1から読み取れる内容として、適切でないものを、ア～エから1つ選んで、その記号を書きなさい。

- ア 季節によって食料は異なるが、いろいろな動物の腐りを行って生活していた。
- イ 春には、ゼンマイやワラビ、コンブなどを採集し、トドなども食べていた。
- ウ 秋には、クリやクルミなどの木の実やサケなどを多く食べていた。
- エ 冬には、シカなどの狩猟が減り、ハマグリやアサリなどの採集が増えた。



(2) 資料2には、漢字のもとになった文字が列まれています。資料2が見られた文明の説明として適切なものを、ア～エから1つ選んで、その記号を書きなさい。

- ア この文明が起こった場所は黄河流域にあり、鉄製の兵器や農具が広まって、農業や商業が発達し、儒教などの新しい思想も生まれた。
- イ この文明が起こった場所はナイル川流域にあり、ピラミッドと呼ばれる王の墓がある。
- ウ この文明が起こった場所はインダス川流域にあり、モヘンジョ・ダロなどの都市遺跡がある。
- エ この文明が起こった場所はチグリス川、ユーフラテス川流域にあり、ハンムラビ法典がつけられた。

資料2  
調査時には、ここに「甲骨文字」の写真が入る

8 次の(1)、(2)に答えなさい。

(1) 資料の文中の(A)に適する人物名を書きなさい。

資料  
倭人の国は、多くの国に分かれていた。そのなかで、もっとも強い邪馬台国は、30ほどの小国を従えて、(A)が治めていた。(A)は神に仕え、まじないによって政治を行っていた。また、中国へ使節を送り、倭王の称号と金印や銅鏡を授けられた。

(2) 資料の時期の東アジアの様子を示している略地図はどれですか。ア～ウから1つ選んで、その記号を書きなさい。

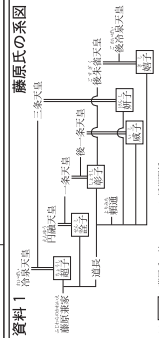


中社—6

中社—5



9 次の平安時代の歴史新聞の下書きを見て、(1)～(4)に答えなさい。

<b>主張</b>	<p>平安時代、漢字からかな文字が作られた。現在の私たちの生活に大きな影響を与えた。</p>
<b>平 安 新 聞</b>	A
<b>この時代の代表的な建築物</b>	B
<b>この時代の文化</b>	C
<b>言葉</b>	<p>この時代の文化を踏まえながらも、日本人の風土や生活に合った文法を生み出している。儀式部や清少納言の『枕草子』などの優れた文学作品が生まれた。</p>
<b>編 集 後 記</b>	<p>藤原氏の系図</p>  <p>資料1 常楽天皇 資料2 藤原氏の御子</p>
<b>藤原氏による勢力を押し、政治が始まる</b>	<p>藤原氏による政治が始まる</p>

- (1) Aの記事の内容として、適切なものを、ア～エから1つ選んで、その記号を書きなさい。
- ア 聖徳太子が十七条の憲法をつくり、役人の心構えを示した。  
 イ 中大兄皇子が中臣鎌足とともに藤原氏を倒し、新しい政治の仕組みをつくる改革を始めた。  
 ウ 聖武天皇が仏教の力で国を守ろうと、都に東大寺を、国ごとに国分寺、国分尼寺を建てた。  
 エ 桓武天皇が政治を立て直すために、都を京都に移した。
- (2) Bの記事に適切な建築物を、ア～ウから1つ選んで、その記号を書きなさい。
- ア 「正倉院」の写真が入る  
 B 「平等院鳳凰堂」の写真が入る  
 C 「東大寺南大門」の写真が入る  
 D 「法隆寺」の写真が入る
- (3) 平安時代の文化を表す記事の内容を読んで、Cに適合する語句を書きなさい。
- (4) 資料1は、藤原氏の系図です。資料1を参考にして、藤原氏が勢力を伸ばした理由を、下にした2つの語句を必ず用いて簡単に説明しなさい。
- 【 娘 天皇 】

中社一7

10 次の年表を見て、(1)～(4)に答えなさい。

時代	平安	鎌倉	室町	安土桃山
おもな出来事	坂上田村麻呂が( A )に任命される 日宋貿易…あ	源頼朝が( A )に任命され幕府を開く 元寇…い	足利尊氏が( A )に任命され幕府を開く 日明貿易…う 各地に織田氏が現れる	豊臣秀吉が関白に任命される 源頼朝が( A )に任命される

- (1) 年表中のAに共通する役職名を書きなさい。
- (2) 資料1と最も関係の深いものを、年表中のあ～えから1つ選んで、その記号を書きなさい。
- (3) 年表中のBで、資料2のように、独自に武士や農民の行動をとりしめた法を特に何といいますか。書きなさい。
- 資料2  
 一 本拠である朝倉館のほか、国内に城を構えてはならない。(朝倉義景家々)  
 一 けんかをした者は、いかなる理由による者でも処罰する。(甲州法度之次第)
- (4) 年表中のCで、豊臣秀吉が行った政策と関係のないものを、ア～エから1つ選んで、その記号を書きなさい。

7	<p>安土の城下町に対する定め</p> <p>一 当所を兼市として命命されたので、さまざまな殿は廃止し、いろいろな殿は免除する。</p>
イ	<p>調査時には、「京ます」の写真が入る</p>
ウ	<p>諸国の百姓が刀やわきざし、弓、やり、鉄砲その他の武器などを持つことは、かたく禁止する。不必要な武器をたくわえ、年貢その他の税をなかなか納入せず、ついには一揆をくわだてたりして、領主に対してよからぬ行為をする者は、もちろん処罰する。</p>
エ	<p>調査時には、ここに「鞍地尺」の写真が入る</p>

中社一8