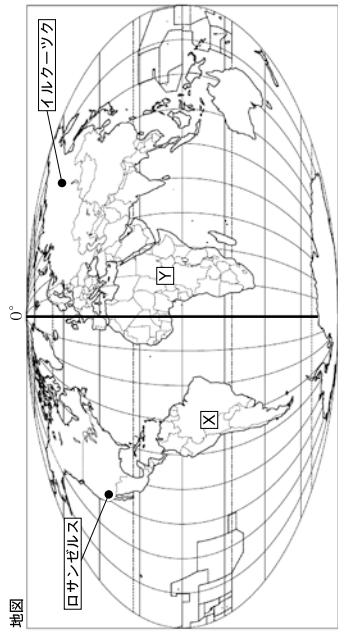


中学校第2学年 社会 調査票

() 組 () 番 氏名 ()

1 地図を見て、次の(1)～(5)に答えなさい。



- (1) 地図中に太線で示されている0°の線のことを何というか、書きなさい。
- (2) 三大洋のうち、地図中のXの大陸に面していない大洋名を書きなさい。
- (3) 地図中のYの州には、直線的な国境線が多く見られます。その理由について、下の()の中の(①), (②) に当てはまる語句を、それぞれ書きなさい。
 かつてこの土地を植民地にしたヨーロッパの国々が、(①) や (②) を使って引いた境界線を、今も国境線として使っているから。
- (4) 東京に住んでいる中学生のあきおさんはススキングスクールに通い、全国大会を目指して練習に取り組んでいます。ある日、コーチがあきおさんに「ロサンゼルスで午前9時の時刻に開始される国際大会が日本で生中継されるよ。」と教えてくれたので、家で見ようとしたら、お父さんは「録画して、後で見なさい。」と言いました。お父さんがそう言った理由を、下の【条件】A～Cにしたがって、短文で書きなさい。

【条件】

- A 「国際大会の生中継の放送開始時刻が」に続けて書くこと。
- B ロサンゼルスの標準時の基準は西経120度、東京の標準時の基準は東経135度である。
- C 解答する際は、「午前」または「午後」を入れて書くこと（サマータイムは考えないものとする）。

中社-1

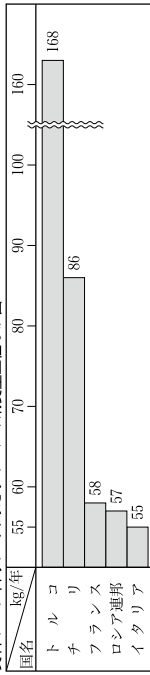
(5) 下の3枚のカードは、地図中のイルクーツクを含む地域の様子を「衣」・「食」・「住」に分けてまとめたものです。この3枚のカードを参考に、この地域の雨温図として適切なものを、下のA～Eの中から1つ選び、その記号を書きなさい。

衣	食	住
2月の服装は、厚いコートを着て、大きな帽子をかぶる。しかし、7月の服装は薄着になる。	主食はライ麦で作った黒っぽいパンやゆでたジャガイモである。また、菜園でとれた、キャベツやにんじんなども食べる。	太い丸太を組み合わせたログハウスの多く、窓はほとんど二重窓、玄関のとびらは厚い木で造られている。
ア 調査時にはここに雨温図が入る	ウ 調査時にはここに雨温図が入る	オ 調査時にはここに雨温図が入る
イ 調査時にはここに雨温図が入る	エ 調査時にはここに雨温図が入る	オ 調査時にはここに雨温図が入る

(資料年表) 平成28年ほか

2 資料1～3から読み取れる内容として適切でないものを、A～Eの中から1つ選び、その記号を書きなさい。

資料1 1年間の一人あたりのパンの消費量上位5か国



(トースト総合研究所：総務省統計局家計調査) 2010～2012年平均

資料2 世界の小麦の生産量・輸出量上位5か国

国名	穀物作付面積(万ha)
インド	9882
中国	9278
アメリカ	5947
ロシア連邦	4203
ブラジル	2117

(国連食糧農業機関統計データベース2011年より)

調査時にはここに主題図が入る

中社-2

- ア フランス、ロシア連邦、イタリア3か国の1年間の1人あたりのパン消費量の合計は、トルコの1年間の1人あたりのパン消費量より多い。
- イ 1年間の1人あたりのパン消費量の上位5か国のうち、世界の小麦の生産量と輸出量の上位5か国のどちらにも入っている国は、ロシア連邦とフランスである。
- ウ 穀物作物付面積が5000万haを超える国の世界の小麦の生産量に占める割合の合計は、39.0%である。
- エ 資料1～3のすべてにおいて、上位5か国に入っている国は、ロシア連邦だけである。

3 次の(1)、(2)に答えなさい。

- (1) 下の資料は、カナダ、日本、ニュージーランドの領土の面積、領海・排他的経済水域の面積を参考にして、下の①、②に答えなさい。

資料

- ① カナダと日本について、領土の面積と領海・排他的経済水域の面積を比較して分かることを、簡潔に書きなさい。
- ② 日本とニュージーランドについて、領海・排他的経済水域の面積が、領土の面積よりも広い理由を、下の【条件】に従って、短文で書きなさい。

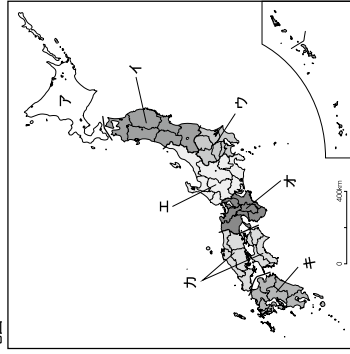
【条件】

「日本とニュージーランドは島国であり。」に続けて書くこと。

- (2) 右の地図は、日本を7つの地方に区分したものです。次の【 】の文章にあてはまる地方を、地図中のア～キの中から1つ選び、その記号を書きなさい。

【北陸、中央高地、東海の三つに分けることができる地方。】

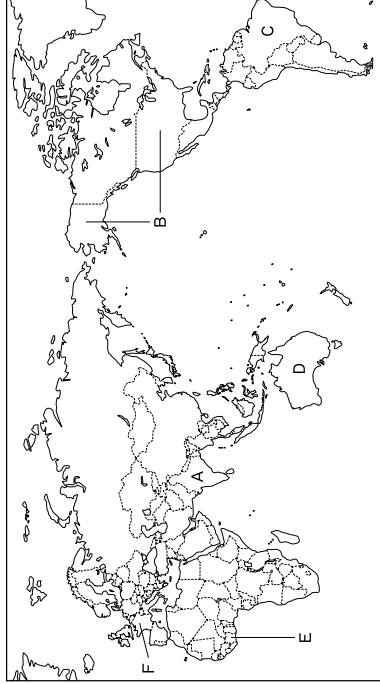
地図



中社-3

4 地図を見て、次の(1)～(5)に答えなさい。

地図



- (1) 地図中のA国では、資料1の紙幣を使っています。この紙幣に複数の言語で表記されている理由を、簡潔に書きなさい。

資料1 A国の紙幣(10ルビ-札)

調査時にはここに写真が入る

中社-4

- (2) 地図中のB国について、資料2、3を見て、下の□の中の()に当てはまる年降水量として最も適切なものを、下のア～エの中から1つ選び、その記号を書きなさい。

資料2 B国の放牧地域

調査時にはここに主題図が入る

(『ゲージズ世界地図2010年版ほか』より)

資料3 B国の年降水量

調査時にはここに主題図が入る

(『ゲージズ世界地図2010年版』より)

B国の放牧地域は、そのほとんどが西経100度より西に分布しており、その地域の年降水量は()のところが多い。

- ア 500mm未満 イ 500～1000mm ウ 1000～2000mm エ 2000mm以上

- (3) 地図中のA～D国について、下の資料4のア～エの中から、C国を示すものを下のア～エの中から1つ選び、その記号を書きなさい。

資料4 世界地図中A～D国の統計表

	人口密度 (人/㎢)	牛肉の生産 (万t)	2014年	2012年	鉄鉱石の産出(含有量) (万t)
ア	23.7	940		25760	
イ	385.5	110		9197	
ウ	33.5	1117		3340	
エ	3.1	229		31500	

(『International Trade Statistics Yearbook 財務省 貿易統計ほか』より)

- (4) 地図中のE国についてまとめた文として適切なものを、下のア～エの中から1つ選び、その記号を書きなさい。

- ア E国の内陸の標高が低いところでは、茶の栽培が盛んである。
 イ E国は、世界有数のカオの生産国である。
 ウ E国は鉱産資源に恵まれており、アフリカ最大の工業国である。
 エ E国では古代文明が栄え、ピラミッドなどの遺跡がある。

資料5 EU各国の一人あたりの国民総所得

調査時にはここに主題図が入る

(『世界銀行資料ほか』より)

- (5) 地図中のF国が加盟するヨーロッパ連合(EU)の課題について述べた下の□の文の()に当てはまる内容を、右の資料5を参考にして、書きなさい。

EU各国の一人あたりの国民総所得を比べると、F国のように4万ドル以上の国もあるが、2万ドル未満の国もある。つまり、EU加盟国間には、()。

5 年表は、はるのさんが小学校で学習した内容をまとめるためにつくったものです。これを見て、次の(1)～(4)に答えなさい。

年表	6	7	8	9	10	11	12	13	14	15	16	17	18	19
世紀														
時代	A			中世				近世				近代		
写真	A			中世				近世				近代		
	調査時にはここに写真が入る 法隆寺			調査時にはここに写真が入る 銀閣				調査時にはここに写真が入る 日光東照宮				調査時にはここに写真が入る 富岡製糸場		

- (1) 年表中の「10世紀」は、西暦何年から何年までか、書きなさい。
- (2) 年表中の時代は、社会の仕組みの特徴による大きな時代区分です。A に当てはまる時代の名前を書きなさい。
- (3) 年表中の4枚の写真は、はるのさんが考えたテーマを考え、4つの時代の建造物を選んでみましょう。はるのさんが考えたテーマを書きなさい。
- (4) はるのさんは、4つの時代で活躍した人物をそれぞれ2人ずつ選びました。近世に活躍した人物の組み合わせとして適切なものを、下のア～エの中から1つ選び、その記号を書きなさい。

- ア 小村寿太郎・野口英世
イ 北条時宗・雪舟
ウ 杉田玄白・伊能忠敬
エ 聖武天皇・築式部

中社—7

6 次の(1)～(3)に答えなさい。

(1) 右の資料1は、大和政権が生まれたころに造られた巨大な王や豪族の墓を示しています。このような形の墓を何というか、書きなさい。

資料1
調査時にはここに大仙古墳の写真が入る

(2) 資料1と右の資料2、3の時代の組み合わせとして適切なものを、下のア～エの中から1つ選び、その記号を書きなさい。

	資料1	資料2	資料3
ア	縄文時代	弥生時代	古墳時代
イ	古墳時代	弥生時代	縄文時代
ウ	弥生時代	縄文時代	古墳時代
エ	古墳時代	縄文時代	弥生時代

資料2
調査時にはここに土偶の写真が入る

資料3
調査時にはここに銅鐸の写真が入る

(3) 下の資料4は、5世紀に、倭王武が宋(南朝)に送ったとされる手紙の一部です。文中の()に共通して入る国名を、下の資料5中の国名から1つ選び、書きなさい。

資料4 倭王武の手紙
私の祖先は、自らよろいやかぶとを身に着け、山や川をかけめぐり、東は55国、西は66国、さらに海をわたって95国を平定しました。しかし私の使いが陛下の所に買物を持っていくのを、()がじゃまをしています。今度こそ()を破ろうと思いますので、私に高い地位をあたえて激励してください。

資料5 5世紀の東アジヤ
調査時にはここに地図が入る

(『宋書』倭国誌、部分要節)

中社—8

7 表は、なつみさんが飛鳥時代から平安時代までの学習をまとめた一部です。次の(1)～(4)に答えなさい。

表

時代名	主な国内のうごき	仏教に関することから
飛鳥	<ul style="list-style-type: none"> 十七朱の憲法が制定された。 A文化の政教が行われた。 	<ul style="list-style-type: none"> 飛鳥地方(奈良盆地南部)を中心に、日本で最初の仏教文化が栄えた。
奈良	<ul style="list-style-type: none"> 班田収授法が実施された。 B聖徳太子の私財法が出された。 	<ul style="list-style-type: none"> 鑑真が、遣唐使にもなわかれて来日し、仏教の教えを広めた。
平安	<ul style="list-style-type: none"> C都が平安京に移された。 D平氏がほろびた。 	<ul style="list-style-type: none"> 唐に渡ったE鑑真と空海が、仏教の新しい教えを日本に伝えた。

- (1) 表中の下線部Aのできごとに関わった人物について述べた文として適切なものを、下のア～エの中から1つ選び、その記号を書きなさい。
- ア 大津宮(滋賀県)に都を移し、ここで即位して天智天皇となった。
- イ 持統天皇として即位し、藤原京を造った。
- ウ 東北地方の蝦夷を征服するため、征夷大将軍に任命された。
- エ 推古天皇の摂政になり、蘇我馬子と協力して天皇中心の政治制度を整えようとした。
- (2) 下の資料は表中の下線部Bについて書かれています。資料中の()にはBによって認められるようになった内容が入ります。その内容を書きなさい。

資料

養老7(723)年の規定では、聖徳は期限が終れば、ほかの土地と同様に園に取められることになっている。しかし、このために農民は意欲を失い、せつかく土地を開墾しても、またあれてしまう。今後は()。

(堀日本紀より)

- (3) 下のア、イ、ウは、表中のCとDの間におきたできごとです。ア～ウを年代の古い順に記号で書きなさい。
- ア 遣唐使が停止された。
- イ 白河上皇の院政が始まった。
- ウ 藤原道長による摂関政治が行われた。
- (4) 表中の下線部Eの人の人物が開いた仏教の宗派の共通する特徴として適切なものを、下のア～エの中から1つ選び、その記号を書きなさい。
- ア 薩摩によって自分の力でさとりを開こうとする。
- イ 山嶽の寺で修行や厳しい修行をする。
- ウ 法華経の題目(南無妙法蓮華経)を唱えれば、人も国家も救われると説く。
- エ 念仏を唱えて阿彌陀如来にすがり、死後に極楽浄土に生まれ変われることを願う。

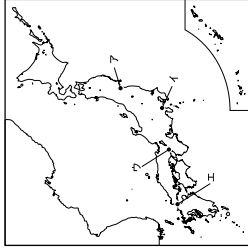
中社—9

8 年表を見て、次の(1)～(4)に答えなさい。

年表

西暦(年)	主なできごと
1167	平清盛が大政大臣になる。
1185	源頼朝が守護・地頭の職權を認められる。……………A
1274	文永の役……………B
1281	弘安の役……………B
1392	足利義満のときに南北朝が統一される。

地図



- (1) 年表中の平清盛と足利義満が共通して行ったことを、下のア～エの中から1つ選び、その記号を書きなさい。
- ア 娘を天皇のきさぎさにして権力を強めた。
- イ 東北地方の蝦夷に大軍を送った。
- ウ 周辺の武士団を率いて朝廷に反乱を起こした。
- エ 中国と貿易を行った。
- (2) 年表中のAにより、幕府が置かれた場所を、右の地図中のア～エの中から1つ選び、その記号を書きなさい。
- (3) 年表中のBの後に御家人は幕府に対して不満を持つようになりました。その理由を、右のカードを参考にして、簡潔に書きなさい。

カード

年表中Bのできごとのようす

元軍は1281(弘安4)年に再び日本に攻めてきた。幕府が海岸に築いた石の防壁や、御家人の活躍で、元軍は上陸できず、暴風雨にあつて大損害を受け、引き上げた。

資料

右の資料は室町時代から受け継がれている、ある芸能の現代の舞台の様子です。この芸能に関係する人物を、下のア～エの中から1つ選び、その記号を書きなさい。

ア 通徳……………兼好法師

ウ 世阿弥……………観世

調査時にはここに現代の能の写真が入る

中社—10