


中学校第2学年 社会 調査問題

() 組 () 番 氏名 ()

1 次の略地図を見て、あとの(1)～(4)に答えなさい。

略地図



調査時には
ここに地図が
入る

- (1) 略地図中の経度0度の太線を何とよいか、書きなさい。
- (2) 略地図中のA地点の位置を、緯度と経度を用いて書きなさい。
- (3) 略地図中のBの大陸が接している三大洋は2つある。それぞれを何とよいか、書きなさい。
- (4) 【条件】を参考にして、下の対話文の(1)～(3)に当てはまる数や言葉を書きなさい。

対話文

なつみさん：WBC (WORLD BASEBALL CLASSIC) の決勝戦は本当に盛り上がりがあったね。
ふゆきさん：そうだね。野球をよく知らない私も手に汗握って試合を見ていたわ。
なつみさん：日本で放送されたテレビでは、3月22日の午前8時から試合が始まったけど、マイアミのローンデボ・パークでは何時から試合が始まったのかな？
ふゆきさん：0度の経線を基準とすると、日本とマイアミの経度の差は、(1)度だから、マイアミの時刻は日本よりも(2)いるね。だから、マイアミでは(3)に試合が始まったことになるね。

【条件】

- マイアミの標準時の基準となる経線は西経75度、日本の標準時の基準となる経線は東経135度とすること。
- (2)を答える際には、日本とマイアミの時差が何時間かということにも触れること。
- (3)を答える際には、マイアミの日付と時刻(午前か午後かも必ず入れる)を書くこと。

中社-1

2 次の対話文は、略地図を見ながら世界の諸地域について、先生が配布した資料をもとにグループで話し合っている場面を表しています。この対話文と資料1～5を見て、あとの(1)～(6)に答えなさい。



調査時には
ここに地図が
入る

対話文

はるかさん：まずはヨーロッパのA国から。資料1は、A国の首都パリと日本の札幌の雨温図ね。
あきおくん：Xハリは札幌より高緯度にあるのに冬でも温暖だね。どうしてだろう。
なつみさん：資料2を見ると、(1)からよね。
はるかさん：資料3を見ると、B国は石油の輸出が多いね。
ふゆきくん：そういえばアフリカ州ではB国以外にも、Y特定の資源や農産物の輸出で経済が成り立っている国が多いそうだよ。
はるかさん：次はアジア州にあるC国。中国やC国をはじめとして人口が多い地域ね。人口のこと以外で、C国にはどんな特徴があったかしら。
あきおくん：(2)だよ。
はるかさん：次はオセアニア州のD国。資料4を見ると、1961年までと1981年以降とは、D国に住む移民の出身州の割合が変化しているね。どうしてかしら。
ふゆきくん：(3)だよ。
はるかさん：次は北アメリカ州のE国。この国にはもともと先住民がいたけど、17世紀以降にaヨーロッパから来た移民が土地をうばって開拓を進めたよね。
なつみさん：そうそう。労働力を補うためbアフリカの人々が奴隷として連れてこられたわ。現在では、cポルトガル語を話すメキシコや中央アメリカ、西インド諸島の国々から移住したヒスパニックとよばれる人々もこの国で働き経済を支えているわ。
はるかさん：この国の工業には、どんな特徴があったかしら。
なつみさん：かつては、豊富な鉱産資源を生かして五大湖周辺で重工業が盛んだったけど現在は、dサンベルトとよばれる地域でICT産業や航空宇宙産業が発達しているわ。
はるかさん：最後は南アメリカ州のF国。資料5の統計表をみて、F国の統計がどれか考えましょう。
ふゆきくん：統計表はC～F国の4つの国の統計を示しているから、すべてを特定してF国がどれか確定は見つけようよ。

中社-2

- (1) 資料1は、略地図中のA国の首都パリ（北緯48度）と日本の札幌（北緯43度）の雨温図です。下線部Xの理由を説明した【①】に当てはまる文を、資料2の2種類の矢印が表す海流と風の名前を示し、簡潔に書きなさい。

資料1 パリと札幌の雨温図

調査時にはここにパリの雨温図が入る	調査時にはここに札幌の雨温図が入る
-------------------	-------------------

資料2 ヨーロッパの気候に影響を与える海流と風（→：海流 →：風）

調査時にはここに地図（主題図）が入る

- (2) 資料3は、略地図中のB国の輸出品を表しています。下線部Yのような経済のしくみを何というか、書きなさい。

資料3 B国の輸出品 [2017年]

調査時にはここにグラフが入る

- (3) 対話文の【②】に当てはまる、略地図中のC国に関する説明を、次のア～エの中から1つ選んで、その記号を書きなさい。

- ア アラブ系の人々が多く、人口のほとんどがイスラム教徒の国
- イ 内陸国であり、希少金属などの資源が豊富な国
- ウ 南極にICT（情報通信技術）産業が発達したベンガルールという都市がある国
- エ ASEANという地域連合に加盟し、工業化を進めている国

- (4) 資料4を見て、1981年以降にアジア州出身の移民が増えた理由を説明した【③】に当てはまる文を、次の【条件】をもとに書きなさい。

資料4 D国に暮らす移民の出身別割合の移り変わり

調査時にはここにグラフが入る

【条件】
 ・「D国では、」に続けて書くこと。
 ・「白豪主義」という語句を用いて、それがどのような内容の政策であったのか書くこと。

- (5) 対話文の中でE国について説明している下線部a～dのうち、間違っているところを1つ選んで、記号と正しい語句を書きなさい。

- (6) 略地図中のC～F国の統計を示すものを、資料5のア～エの中からそれぞれ記号で選び、書きなさい。

資料5 地図中C～F国の統計表

	人口密度 (人/km ²)	2017年 (万人)	2020年 (万人)	牛肉の生産量 (万t)	鉄鉱石の生産量 (万t)
ア	24	1010	24679		
イ	390	252	12700		
ウ	36	1236	2410		
エ	3	237	56452		

（世界人口年鑑）2017年版、¹United Nations Food and Agricultural Organization (FAO)、2020年、²USGS (United States Geological Survey、2020年より)

中社-3

中社-4

3 次の資料を見て、あとの(1)、(2)に答えなさい。

- (1) 下の文は、資料中のある島について説明しています。下の文を読んで、①、②に答えなさい。

① 説明に当てはまる島を、A～Dの中から1つ選んで、その記号と島名を書きなさい。

② 日本政府が行った理由を、次の【条件】をもとに説明しなさい。

資料 日本と周辺の海域

調査時にはここに地図(主題図)が入る

かつてこの島は、外周約1kmの環礁の中の無人島で、満潮時に大小2つほどの陸が海上に1mほど顔を出すだけになっていました。日本政府は、この島に対し、約300億円をかけて護岸工事を行いました。

- ① 説明に当てはまる島を、A～Dの中から1つ選んで、その記号と島名を書きなさい。

- ② 日本政府が行った理由を、次の【条件】をもとに説明しなさい。

【条件】

- 「経済水域が遡ると」という書き出しに続けて書く。
- 「資源」という語句を使って書く。

- (2) 資料中のEの島は日本固有の領土ですが、となり合う国との間で、領土をめぐる問題をかかえています。この島の名称と属する都道府県名の正しい組み合わせを、下のア～カの中から1つ選んで、その記号を書きなさい。

- ア 尖閣諸島 島根県
 イ 尖閣諸島 鳥取県
 ウ 尖閣諸島 山口県
 エ 竹島 島根県
 オ 竹島 鳥取県
 カ 竹島 山口県

中社一5

4 次の資料1～資料6を見て、あとの(1)～(4)に答えなさい。

- (1) 下の文は、資料1の○で囲まれた目録についてしんはいさんかままとめた文である。文章中の□に当てはまることを、簡潔に書きなさい。

資料1 縄文時代のむらの生活の様子

調査時にはここにイラストが入る

縄文時代のむらでは、貝塚ができました。貝塚を発掘して見つかったものの中には、魚や動物の骨、貝殻があります。これらを調べると、□についてわかります。他には道具や装飾品も見つかっています。これら調べると、縄文人の暮らしの様子とものづくりの技術についてわかります。

- (2) 資料2と同じ時代の遺跡として適切なものを、下のア～ウの中から1つ選んで、その記号を書きなさい。

資料2 3世紀頃の倭人についての記述

ア 群馬県 岩宿遺跡
 イ 青森県 三内丸山遺跡
 ウ 佐賀県 吉野ヶ里遺跡

……南に進むと邪馬台国に着く。ここは女王が都を置いている所である。……倭にはもともと男の王がいたが、その後国内が乱れたので一人の女子を王とした。名を卑弥呼といい、成人しているが夫はおらず、一人の弟が国政を輔佐している。

(『魏志』倭人伝) 部分要約

- (3) 資料3の頃の東アジアの様子の様子を、下のア～ウの中から1つ選んで、その記号を書きなさい。

資料3 倭王武の手紙

私の祖先は、自らよるいやかぶとを身に着け、山や川を駆けめぐり、東は55国、西は66国、さらには海をわたったつて弱国を平定しました。しかし私の使いが陛下の所に貢ぎ物を持っていくのを、高句麗がじやまをしています。今度こそ高句麗を破ろうと思ひますので、私に高い地位をあたえよと懇願して下ささい。

ア 調査時にはここに2世紀ごろの東アジアの主題図が入る

イ 調査時にはここに5世紀の東アジアの主題図が入る

ウ 調査時にはここに7世紀初めの東アジアの主題図が入る


- (4) 資料4、5、6が作られていた時代の組み合わせとして適切なものを、下のア～カの中から1つ選んで、その記号を書きなさい。

資料4	資料5	資料6
ア 縄文時代 弥生時代 古墳時代	資料5 土偶	資料6 武人埴輪
イ 縄文時代 古墳時代 弥生時代	資料4 銅鏡	調査時にはここに土偶の写真が入る
ウ 弥生時代 古墳時代 縄文時代		調査時にはここに土偶の写真が入る
エ 弥生時代 縄文時代 古墳時代		調査時にはここに銅鏡の写真が入る
オ 古墳時代 縄文時代 弥生時代		調査時にはここに銅鏡の写真が入る
カ 古墳時代 弥生時代 縄文時代		調査時にはここに銅鏡の写真が入る

(群馬県出土 銅鏡 伊都郡歴史博物館蔵)
 (群馬県出土 土偶 東京国立博物館蔵)
 (群馬県出土 武人埴輪 東京国立博物館蔵)

中社一6

5 あさみさんは、飛鳥時代から平安時代までの学習について、下の図にまとめました。これを見て、あとの(1)～(6)に答えなさい。



- (1) 資料1は図中Iの下線部①にある聖徳太子が示した役人の心構えの一部です。これを何というかが、書きなさい。
- (2) 図中Iの下線部②よりも後に起こったできごとである下のア～エを、年代の古い順に並べなさい。
- ア 壬申の乱が起こり、天武天皇が即位した。
 - イ 菅原道真の訴えで、遣唐使が停止された。
 - ウ 白河上皇の院政が始まった。
 - エ 藤原道長による摂関政治が行われた。
- (3) 図中IIの下線部③のきまりが出された後、社会に起こった変化として適切なものを、次のア～エの中から1つ選んで、その記号を書きなさい。
- ア それまで豪族が支配していた土地と人々々が、国家の直接の支配を受けることになった。
 - イ 多くの土地を持つ貴族は、土地の面積に応じた税を支払うことになった。
 - ウ 朝廷は地方の政治を立て直すために、貴族の権限を弱めた。
 - エ 貴族や大寺院は、現地の農民を使って荘園を増やしていった。

中社-7

(4) 資料2は奈良時代の人々に課せられた税や兵役の種類を示したものです。資料3は、908年に作られた戸籍の一部で、図中IIの下線部④にあるように、いつわりの内容で、実態を表していないものです。このように戸籍をいつわった理由について、資料2と資料3を参考にして、簡潔に書きなさい。

資料2 奈良時代の人々に課せられた税や兵役の種類

租	6歳以上の男女	
調	男子	女子
庸	正丁 (21～60歳の男子)	老丁 (61～65歳の男子)
雑徭	組、糸、真綿、布または特産物	正丁の2分の1
兵役	布 (労役10日のかわり)	正丁の2分の1
	地方で労役 (年間60日まで)	なし
	3、4人に一人。食料・武器を自分で負担し訓練を受ける。一部は郡1年か町人3年。	正丁の2分の1
	なし	なし

資料3 周防国玖珂郡玖珂郷のある家族の戸籍 (908年(延暦8年) 周防国玖珂郡玖珂郷の戸籍」により作成)

	男子	女子
17～20歳	0名	0名
21～60歳	2名	4名
61～65歳	1名	0名
66歳～	0名	9名

- (5) 資料4は、図中IIの下線部⑤の天皇が使用した道具や武器などの宝物が残されている建築物で、資料5のガラス製の容器も取められています。
- また、資料6は3～6世紀にペルシャ(現在のイラン)で作られたガラス製の容器です。資料5と資料6のつくりはよく似ています。その理由として適切なものを、次のア～エの中から2つ選んで、その記号を書きなさい。
- ア 朝廷が遣唐使を送っていたから。
 - イ 兵庫の港を整備し、日本貿易を行ったから。
 - ウ 中国と西方がシルクロードで結ばれていたから。
 - エ 大和政権の支配が地方まで及ぶようになったから。
- (6) 図中IIのXに共通して当てはまる語句は何か、書きなさい。

中社-8

6 こうきさんは、「鎌倉時代と室町時代」についてレポートにまとめているところですが。資料1～3を見て、あとの(1)～(3)に答えなさい。

【こうきさんのレポート】

【テーマ】鎌倉時代と室町時代について興味をもったこと

鎌倉幕府やその次の政権である室町幕府は、支配の仕組みをどのように工夫していたのか、また、それぞれの時代に、どのような新たな文化が生まれたのか等について、詳しく知りたいたいと思い、調べることにした。

調査方法

(1) 教科書やインターネットで幕府の仕組みを調べた。
 (2) 図書室やインターネットで鎌倉文化や室町文化について調べた。

(1) 鎌倉幕府・室町幕府の仕組みについて

宗派	浄土宗	浄土真宗	時宗	日蓮宗	臨濟宗	曹洞宗
開祖	法然	親鸞	一遍	日蓮	栄西	道元
主な信者	貴族・武士 民衆	民衆	民衆	関東の武士 高工業者	貴族 幕府の有司者	北陸を中心とする武士
特徴	一心に、「南無阿弥陀仏」と念仏を唱える。	阿弥陀如来を信じて念仏を唱える。	踊り念仏や念仏の札によって布教する。	「南無妙法蓮華経」と題目を唱える。	宋から伝わる座禅を組み、自分の力で悟りを開く。	

(2) 鎌倉仏教の特徴

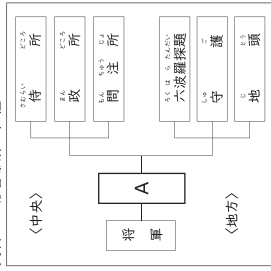
(3) 室町時代の文化遺産

(1) 鎌倉幕府も室町幕府も、將軍の補佐役を置き、役所などの政治の仕組みを工夫して整備し、支配を強めていった。
 ・鎌倉時代の文化については、鎌倉時代に生まれた仏教について興味をもった。これらの仏教の教えは、⑤ のて多くの人々に広まった。
 ・室町時代の文化については、現代まで受け継がれているものが多いと感じた。
 ・この後、武士による政権はどのように発展していったのかについて、もっと知りたくなった。

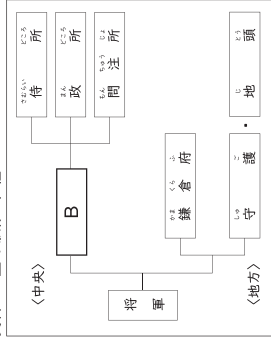
まとめ・感想

中社-9

資料1 鎌倉幕府の仕組み



資料2 室町幕府の仕組み



(1) こうきさんは、教科書やインターネットで調べた鎌倉幕府・室町幕府の仕組みについて資料1・資料2にまとめ、レポートの①・②の位置にはりつけようとしています。資料1のA、資料2のBに当てはまる將軍の補佐役の名称は何か、それぞれ書きなさい。

(2) こうきさんは、図書室やインターネットで調べた室町文化の文化遺産について、特に興味をもったものの写真を、レポートの③・④の位置にはりつけようとしています。③・④に当てはまる資料を下のア～エの中から、2つ選んで、その記号を書きなさい。

ア 東大寺の大仏

調査時には
ここに
東大寺の大仏の
写真が入る

イ 法隆寺

調査時には
ここに
法隆寺の写真が
入る

ウ 鹿苑寺の金剛

調査時には
ここに
金閣寺の写真が
入る

エ 雪舟の水墨画

調査時には
ここに
水墨画の
写真が入る

(3) 右の資料3は、以前、こうきさんが平安時代についてレポートを作成したときに、平安時代前期の仏教についてまとめた表です。資料3と、「こうきさんのレポート」の調査内容にある鎌倉仏教の特徴をまとめた表を参考にして、「こうきさんのレポート」の⑥に当てはまる内容を、簡潔に書きなさい。

資料3 平安時代前期の仏教の特徴

宗派	天台宗	真言宗
開祖	最澄	空海
主な信者	貴族	
特徴	・山奥にこもる。 ・学問を行う。 ・厳しい修行をする。	

中社-10