

平成28年度学習状況調査

中学校第2学年 社会 調査票

() 組 () 番 氏名 ()

1 次の(1)～(5)に答えなさい。

略地図

調査時にはここに正配方位図法の地図が入る

(1) 略地図中の☒の海洋名を書きなさい。

(2) 略地図から読み取れる内容として適切でないものを、ア～エの中から1つ選んで、その記号を書きなさい。

- ア 南半球にある都市は、全部で4つある。
- イ 東京から10,000km以上離れた都市は4つある。
- ウ 東京から見て、モスクワは北西に位置する。
- エ 東京から東西に向かって世界一周をすると、六大陸のうちオーストラリア大陸と南極大陸以外はすべて通過する。

(3) 東京に住んでいるみなみさんが、ニューヨークに住んでいるお兄さんにニューヨークの1月1日午前0時に電話で新年のあいさつをしようと思いました。東京のみなみさんは、1月1日の何時に電話をすればよいのでしょうか。

次の【条件】にしたがって、短文で書きなさい。

【条件】

- A 東京のみなみさんは、1月1日の「」に続けて書くこと。
- B 東京の標準時の基準となる経線は東経135度であり、ニューヨークの標準時の基準となる経線は西経75度である。
- C 解答する際は東京の時刻を入れること(サマータイムは考えないものとする)。

中社一1

(4) 下の雨温図の特徴を読み取って、この地域の人々の生活の様子を表しているものを次のア～エから1つ選んで、その記号を書きなさい。

雨温図

調査時にはここに雨温図が入る

- ア 主食は、ライ麦でつくった黒っぽいパンやゆでたじゃがいもである。冬は、アイスホッケ、クロスカントリースキーをおこなった湖で行っている。
- イ 地下水がわき出るオアシス以外では樹木はほとんど育たないため、乾燥に強いひえやきび、もろこしといった穀物をつくってきた。
- ウ グアバやマンゴーチー、バナナなどの果物が自然に生えている。いもや肉を蒸し焼きにした料理がよく食べられている。
- エ リヤマヤアバルバカを削い、標高によって異なる気温を利用して、100種類をこえるじやがいもやとうもろこしを栽培している。

『理科年表平成29年』より

(5) ほくとは世界で最大の宗教について調べ、それぞれカードにまとめてみました。次のカードは何教についてまとめたカードか、その宗教名を書きなさい。

教

【分布】北アメリカ、西アジア、中央アジア、東南アジア
 【経典】コーラン
 【きまりごと】
 ・豚に關連したものを食べない。
 ・金曜日にはモスク(礼拝所)に集まって礼拝をする。
 ・1日5回、聖地メッカに向かつて礼拝をする。
 ・9月(ラマダン)には約1か月の断食をする。

いのりの様子
 調査時にはここに写真が入る

2 米に関する資料1～4から読み取れる内容として適切でないものを、ア～オから2つ選んで、その記号を書きなさい。

資料1 生産量上位10か国

| 国名 | 量(万t) | % |
|--------|--------|------|
| 中国 | 14,400 | 30.1 |
| インド | 10,400 | 21.6 |
| インドネシア | 3,770 | 7.9 |
| パキスタン | 3,460 | 7.2 |
| ベトナム | 2,820 | 5.8 |
| タイ | 2,050 | 4.2 |
| フィリピン | 1,220 | 2.5 |
| ミャンマー | 1,215 | 2.5 |
| ブラジル | 850 | 1.7 |
| 日本 | 770 | 1.6 |

※%は世界の総生産量に占める割合
 (世界計47,643万t)

資料2 輸出量上位5か国

| 国名 | 量(万t) |
|-------|-------|
| タイ | 1,000 |
| ベトナム | 900 |
| インド | 670 |
| パキスタン | 390 |
| アメリカ | 350 |

(世界計4,154万t)

資料4 消費量上位5か国

| 国名 | 量(万t) | % |
|--------|--------|------|
| 中国 | 14,800 | 30.6 |
| インド | 9,800 | 20.3 |
| インドネシア | 3,920 | 8.1 |
| パキスタン | 3,480 | 7.1 |
| ベトナム | 2,150 | 4.4 |

(世界計48,240万t)
 ※%は世界の総生産量に占める割合

資料3 輸入量上位5か国

| 国名 | 量(万t) |
|--------|-------|
| 中国 | 370 |
| ナイジェリア | 350 |
| イラン | 170 |
| フィリピン | 160 |
| イラク | 145 |

(世界計3,889万t)


(アメリカ合衆国農務省
 『米産年報』2015
 より2014年データ)

- ア タイの輸出量は、輸入量上位3か国の輸入量の合計を超えている。
 イ 生産量上位10か国のうち、アジア州の国だけで世界の生産量の85%を超えている。
 ウ 中国とインドの消費量は、世界の消費量の50%を超えている。
 エ 輸出量上位5か国のうち、生産量上位10か国に入っていないのはアメリカだけである。
 オ 生産量上位5か国と消費量上位5か国は、共通の国である。

3 資料と地図を見て、次の(1)、(2)に答えなさい。

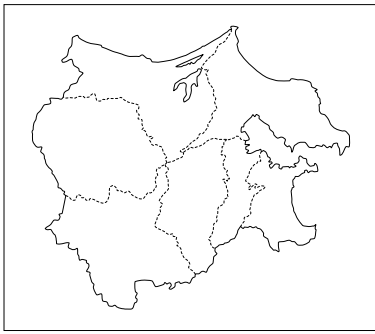
(1) 右の資料中のAの海域を何と
 いうか、書きなさい。

資料
 調査時にはここに領域を示す図が入る



- (2) 右の地図は、日本を7地方に分けたうちの関東地方のものです。関東地方は7地方のうち2つの地方と隣接になっており、そのうちの1つは東北地方です。もう1つは何地方か、書きなさい。

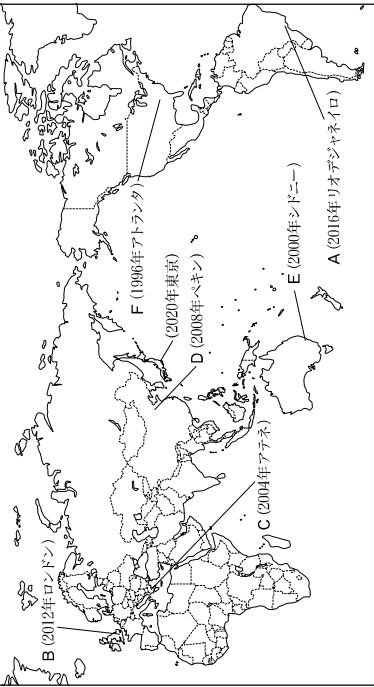
地図



中社—3

- 4** あずまさんは、2020年に東京オリンピックが開催されることになったので、夏休みのレポート課題で、1996年以降の夏季オリンピックがA～Fの国で開催されたことを地図にまとめました。あずまさんが用意した地図を見て、次の(1)～(5)に答えなさい。

地図



()内は開催年と開催都市を示している

- (1) あずまさんは、地図中のA国について調べたところ、資料1を見て森林減少量の多さを知り、その理由を考えました。あずまさんが考えた理由を、資料2を参考にして簡潔に書きなさい。

資料1 世界の森林減少量上位5か国

| 国名 | 減少量(万ha) |
|--------|----------|
| A | 310 |
| インドネシア | 187 |
| スーダン | 59 |
| ミャンマー | 47 |
| ザンビア | 45 |

(「世界森林白皮2006年版」より
 2000～2005年の1年当たり平均)

資料2 A国のアマゾン開発

調査時にはここに
 主題図が入る



(「国語ラテンアメリカ」より)

- (2) あずまさんは、地図中のB国とC国について、下のア～エのようにまとめました。C国についてまとめた文を、ア～エから2つ選んで、その記号を書きなさい。
- ア この国の首都とフランスのバリの間を結ぶ、ユーロスターが走っている。
 イ 日本より高緯度に位置するが、暖流と偏西風の影響で、気候は比較的温暖である。
 ウ 夏は高温で乾燥し冬は温暖で雨が多く、オリーブやオレタンジなどを生産している。
 エ 多くのヨーロッパの人々は、バカンスで地中海沿岸にあるこの国を訪れている。

中社—4

- (3) 資料3のア～エは、地図中のC～Fの国のいずれかかの統計データです。ア～エのうち、D国を示すものを1つ選んで、その記号を書きなさい。

資料3 地図中C～Fの国の統計表

| | 1人当たりの国民総所得(ドル) | 輸出額(億ドル) | 2013年 |
|---|-----------------|----------|--------|
| ア | 146.2 | 5,720 | 22,106 |
| イ | 3.1 | 59,260 | 2,531 |
| ウ | 33.5 | 52,340 | 15,790 |
| エ | 84.3 | 23,710 | 362 |

(¹International Trade Statistics Yearbook 財務省 貿易統計ほかより)

- (4) あずまさんは、地図中のE国で羊が多く飼育されている地域と年降水量の関係を調べるために、資料4を読み取って見たところ、次のようなことが分かりました。①に当てはまる語句として正しいものを、ア～ウから1つ選んで、その記号を書きなさい。

羊は、年降水量が(①)のところでは多く飼育されている。

- ア 250mm未満
イ 250mm～1000mm
ウ 1000mm以上

資料4 E国の羊の飼育

調査時にはここに
主題図が入る

(「グース世界地図2010年版」より)

- (5) あずまさんは、地図中のF国の人口構成について、資料5を参考にしてまとめました。そのまとめとして適切でないものを、ア～エから1つ選んで、その記号を書きなさい。

ア アフリカ系の人々が20%以上

イ ヒスパニックの人々が20%以上

ウ アジア系の人々が5%以上

エ アフリカ系の人々が20%以上

イ 朝庭から能成大將軍に任じられ、幕府を開いた。また、商人に朱印状をあたえて外国との貿易を保護した。

ウ 京都に近い安土(滋賀県)に城を築き、商業や工業をさかんにした。また、私教勢力と対抗するために、キリスト教を保護した。

エ 武士としてはじめて太政大臣の地位につき、一族も朝廷で高い位についた。また、中国との貿易を進めた。

(「現代F国データ総覧2011」より)

- 5 下の年表は、小学校の学習内容をふり返る授業で、ほくとさんの班が、時代の名称や特色、学習した人物のカードを作り、年表にまとめたものです。これを見て、次の(1)～(3)に答えなさい。

| | 古代 | A | 近世 | 近代 |
|-----|----------------------|----------|----------|------|
| I | 飛鳥 奈良 天智 天武 | 鎌倉 室町 | 安土 桃山 | 徳川幕府 |
| II | 飛鳥 奈良 天智 天武 | 鎌倉 室町 | 安土 桃山 | 徳川幕府 |
| III | 飛鳥 奈良 天智 天武 | 鎌倉 室町 | 安土 桃山 | 徳川幕府 |

年表

調査時にはここにイラストが入る

①鑑真 ②平清盛 ③織田信長 ④徳川家康

調査時にはここにイラストが入る

調査時にはここにイラストが入る

調査時にはここにイラストが入る

調査時にはここにイラストが入る

天智や貴族が政治を行った時代 (C)の政治が始まった時代 (C)の政治が安定した時代 近代化が進んだ時代

- (1) A、Bに当てはまる時代のカードを作って貼りたいと思います。それぞれの時代の名前を書きなさい。

- (2) ほくとさんは、年表中の①～④の人物について、人物紹介のコメントを書きました。次のア～エのうち、③の人物について述べたものを、ア～エから1つ選んで、記号を書きなさい。

ア 日本に渡ろうとして何度も遭難し、冒目になつたが、6度目に来日を果たし、仏教の教えを広めた。

イ 朝庭から能成大將軍に任じられ、幕府を開いた。また、商人に朱印状をあたえて外国との貿易を保護した。

ウ 京都に近い安土(滋賀県)に城を築き、商業や工業をさかんにした。また、私教勢力と対抗するために、キリスト教を保護した。

エ 武士としてはじめて太政大臣の地位につき、一族も朝廷で高い位についた。また、中国との貿易を進めた。

- (3) IIIのカードはIの時代の特色を示している。Cに当てはまる語句を書きなさい。

中社—6

中社—5

6 下の資料1～4はある時代の資料です。次の(1)～(3)に答えなさい。

資料1 「(①) 書」東夷伝 (部分要約)

元2 (57)年に倭の^{新羅}が(①)に朝貢したので、光武帝は百練(甲とそれを結びとめるひも)をおくった。...

資料3 2世紀ごろの東アジア

調査時にはここに地図が入る

資料2 吉野ヶ里遺跡の

物質やくら

調査時にはここに写真が入る

資料4 銅鏡

調査時にはここに写真が入る

(福岡県出土 伊都国歴史博物館蔵)

(1) 資料1は、ある国の歴史書の一部を要約したものです。(①)に共通して入る国名を、資料3の地図中の国名から選んで、書きなさい。

(2) 資料1～3を見て、この時代の特徴を下のような文章にまとめました。A・Bに当てはまる語句の組み合わせとして適切なものを、ア～エから1つ選んで、その記号を書きなさい。

この(A)時代は、(B)がさかんになると、社会のしくみも急速に変わり、小さな国ができ、人々を支配する有力者や王が出現した。倭(日本)には100余りの国があったとされ、なかには故国のように朝貢する国もあった。

- ア A 銅文 B 稲作 イ A 銅文 B 狩りや採集
ウ A 弥生 B 稲作 エ A 歌生 B 稲作

(3) 3世紀に倭の30余りの小さな国を従え、中国(魏)から資料4のような銅鏡を100枚送られたとされる邪馬台国の女王を何とよぶか、名前を書きなさい。

中社一7

7 下の表は、ある学級で飛鳥時代から平安時代の学習を行った時に、A～D班が作成したレポートのテーマを示したものです。次の(1)～(4)に答えなさい。

表

| 班 | テーマ |
|---|--------------|
| A | 飛鳥時代の政治のまとめ |
| B | 奈良時代の庶民のくらし |
| C | 平安時代の政治と東アジア |
| D | 飛鳥～平安時代の文化財 |

資料1

一に日く、和をもって實しとなし、さからう(争う)ことなきを宗と(第一に)せよ。
二に日く、あつく三玉を敬え。三玉とは仏・法(仏教の教え)・僧なり。
三に日く、詔(天皇の命令)をうけたまわりては必ずつつしめ(守りなさい)。

資料2 古代の戸籍

調査時にはここに筑前国朝野の戸籍の写真が入る

(1) 資料1は、A班のレポートに盛り込む、聖徳太子が示した役人の心構えの一部です。これを何とよぶか、書きなさい。

(2) 資料2は、B班が用意した古代の戸籍です。この戸籍に登録された6歳以上のすべての人々には、国から口分田があたえられ、その人が死ぬと、国に返すことになっていました。この制度を何とよぶか、書きなさい。

(3) C班のレポートの内容として適切でないものを、1つ選んで、その記号を書きなさい。

ア 摂関政治は、藤原連長と、その子の継連のころが、最も安定していた。

イ 菅原道真のうつつたえで遣唐使の派遣が行われなくなった。

ウ 朝廷は、東北地方の蝦夷に対し、坂上田村麿原らの大軍を送り、その勢力を広げた。

エ 中大兄皇子は、西日本の各地に山城を築いて、唐、新羅からの攻撃に備えた。

(4) 下のア～ウは、D班がまとめに用いた飛鳥時代、奈良時代、平安時代の文化財の写真です。それぞれ時代に合った文化財を1つずつ選んで、その記号を書きなさい。

ア

調査時にはここに法隆寺の釈迦如来像の写真が入る

ウ

調査時にはここに平等院鳳凰堂の写真が入る

調査時にはここに東大寺の大仏の写真が入る

