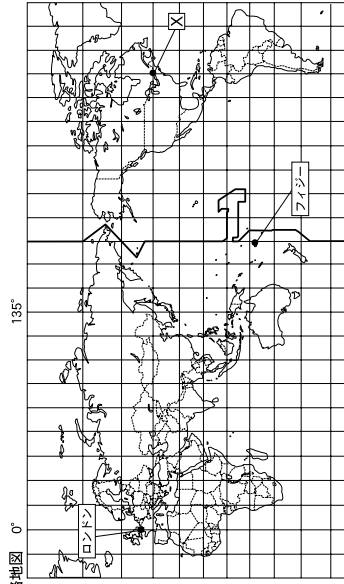


中学校第2学年 社会 調査票

() 組 () 番 氏名 ()

1 略地図を見て、次の(1)～(5)に答えなさい。



- (1) 略地図中の経度0度の経線を何というか、書きなさい。
- (2) 6大陸のうち、この略地図に入っていない大陸名を書きなさい。
- (3) 略地図中のX地点の緯度、経度として正しいものを、ア～エの中から1つ選んで、その記号を書きなさい。
 ア 南緯45度 西経105度 イ 北緯30度 東経105度
 ウ 北緯45度 西経75度 エ 南緯30度 東経75度
- (4) 東京に住んでいるあきおさんが、ロンドンで午後5時(ロンドンの時刻)に試合が開始されるサッカーの生中継を見たいと考えていましたが、お母さんに「録画をして、後で見たい方がいいよ。」と言われました。
お母さんがそう言った理由を、次の【条件】A～Cにしたがって、短文で書きなさい。

【条件】

- A 「サッカーの開始時刻が、」に続けて書くこと。
- B ロンドンの標準時の基準となる経線は0度、東京の標準時の基準となる経線は135度であり、いずれも略地図中に示していることを考慮すること。
- C 解答する際は東京の時刻を入れること(サマータイムは考えないものとする)。

中社一1

(5) 資料1, 2を参考に、フィジーの都市ナディへの雨温図として適切なものをア～エの中から1つ選んで、その記号を書きなさい。

資料1 フィジーの伝統的な生活

- ・ 主食はタロイモ、キャッサバ、ヤムイモなどです。
- ・ ロボ料理とは地面に穴を掘って焼けた石を置いたかまどをつくり、いろいろな食材を入れて蒸す料理です。バナナや、やしの葉をふたに使います。
- ・ 住居は木や竹などでつくられ、屋根は、やしの葉でおおわれています。

資料2 ロボ料理

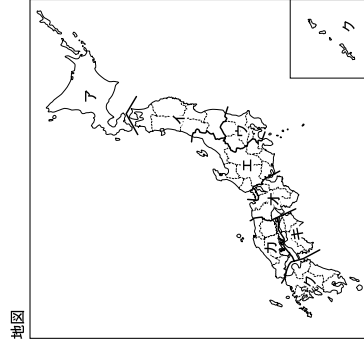
調査時にはここに写真が入る

ア	イ	ウ	エ
調査時にはここに雨温図が入る	調査時にはここに雨温図が入る	調査時にはここに雨温図が入る	調査時にはここに雨温図が入る

2 地図と図を見て、次の(1), (2)に答えなさい。

(1) 地図は、日本を8つの地方に区分したものです。次の①, ②の文章に当てはまる地方を、地図中のア～クの中から1つ選んで、その記号を書きなさい。

- ① 明治時代、江戸(東京)に都が移されるまで、長く日本の都が置かれ、政治の中心となっていた地方。
- ② 日本で1番大きな島に位置し、6つの県のみで構成されている地方。



中社一2

- (2) 図中のケの範囲を何としようか、答えなさい。

図

調査時にはここに領域を示す図が入る

- 3 小麦に関する資料1～4を見て、次の(1)、(2)に答えなさい。

資料1 生産量上位10か国

国名	量(万t)	%
中国	11,741	16.7
インド	8,687	12.4
ロシア	5,624	8.0
アメリカ	3,441	7.8
フランス	3,802	5.4
オーストラリア	2,741	3.9
カナダ	2,526	3.6
オースタン	2,521	3.6
ドイツ	2,280	3.3
オースタン	2,273	3.2

(世界計70,140万t)
※%は世界の総生産量に占める割合

資料2 輸出量上位5か国

国名	量(万t)
アメリカ	3,279
フランス	2,035
オーストラリア	1,766
カナダ	1,634
ロシア	1,519

(世界計14,827万t)

資料3 輸入量上位5か国

国名	量(万t)
エジプト	980
アルゼンチン	745
イタリア	732
日本	621
ブラジル	574

(世界計14,721万t)

資料4 日本の輸入量上位3か国

国名	量(万t)
アメリカ	300
カナダ	132
オーストラリア	126

(FAO統計データベース)
『財務省貿易統計』より
(2011年データ)

- (1) 資料1～4から読み取れる内容として適切でないものを、ア～オの中から2つ選んで、その記号を書きなさい。

- ア 生産量上位10か国のうち、ヨーロッパの国だけで総生産量の20%を超えている。
 イ 輸出量上位5か国のうち、生産量に占める輸出量の割合が最も低いのはロシアである。
 ウ 輸出量上位5か国の輸出量の合計は、輸入量全体の半分を超えている。
 エ 日本の輸入の半分はアメリカからであり、アメリカの輸出全体の20%を超える。
 オ 輸入量の1位と2位は、アメリカの国である。

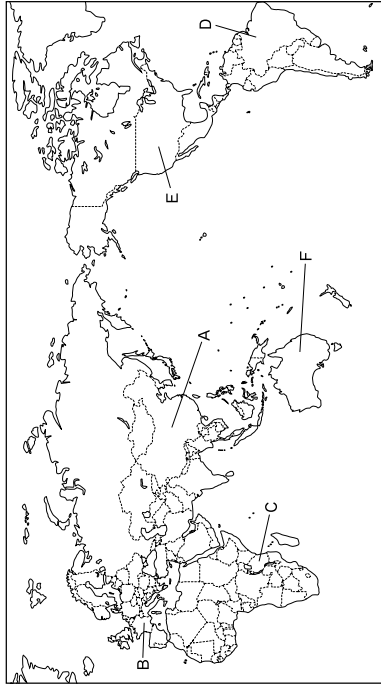
- (2) ある国の農業生産の移り変わりをグラフで表す場合、最も適切なものを、ア～ウの中から1つ選んで、その記号を書きなさい。

- ア 帯グラフ イ 円グラフ ウ 折れ線グラフ

中社—3

- 4 なつみさんは、世界地図中のA～Fの国の中学生が増える交流会に参加します。そのため、夏休みに次のように事前学習をしました。世界地図と資料1～7を見て、次の(1)～(6)に答えなさい。

世界地図



- (1) なつみさんは、資料1から、A国の米の生産が南部に集中していることがわかりました。A国の米の生産が南部に集中している理由を、次の【条件】A～Cにしたがって、短文で書きなさい。

資料1 A国の省別米の生産量

調査時にはここに主観図が入る

資料2 A国の気温と降水量

調査時にはここに主観図が入る

【条件】

- A 「A国の米の生産が南部に集中しているのは、」に続けて書くこと。
 B 「季節風、『降水風』の2語を使用すること。
 C 理由は、資料2から読み取ること。

中社—4

- (2) なつみさんは、B国が位置するヨーロッパ州について、資料3、4を使って調べました。調べた結果として適切なものを、ア～エの中から1つ選んで、その記号を書きなさい。

資料3 ヨーロッパ州の民族分布

調査時にはここに主題図が入る

資料4 ヨーロッパ州の宗教

調査時にはここに主題図が入る

- ア ラテン系諸民族が多く分布している地域は、プロテスタントを信仰する割合が多い。
 イ ゲルマン系諸民族が多く分布している地域は、カトリックを信仰する割合が多い。
 ウ スラブ系諸民族が多く分布している地域は、正教会を信仰する割合が多い。
 エ ケルト系諸民族が多く分布している地域は、正教会を信仰する割合が多い。

- (3) なつみさんは、資料5を使って、アフリカにある3つの国に共通する産業の特色をまとめました。その文章として適切なものをア～エの中から1つ選んで、その記号を書きなさい。

資料5 アフリカの3つの国の輸出

調査時にはここに3つの国のグラフが入る

- ア どの国も工業製品の割合が最も高くなっている。
 イ どの国も上位3品目で50%を超えている。
 ウ どの国も上位3品目の中に農産物が入っている。
 エ どの国も輸出品目に鉱産資源が入っている。

資料6 世界の森林減少量
上位5か国

国名	減少量(万ha)
D 国	310
インドネシア	187
スーダン	59
ミャンマー	47
ザンビア	45

(世界森林資源2006年評価版より)
 (2000～2005年の1年あたり平均)

- (4) なつみさんは、資料6から世界地図中のD国の森林減少量が多いことを知り、その理由を調べました。その結果として適切でないものをア～エの中から1つ選んで、その記号を書きなさい。
 ア 食料の生産量を増やすため、牧場にするとところが増えたから。
 イ アマゾン川流域に道路が建設され、鉱山などの開発に力を入れたから。
 ウ バイオエタノールの原料となるさとうきびを栽培する畑が増えたから。
 エ 日本への木材輸出額が増え、D国の輸出総額の半分を超えたから。

中社—5

- (5) なつみさんは社会科の授業で、E国では近年温暖な南部や太平洋岸でコンピュータや航空機などの先端産業を中心とした工業生産が盛まっていると学習したことを思い出しました。これらの工業地域の名称を書きなさい。

- (6) なつみさんは、F国からの留学生のジョンさんから、資料7をもとにF国が多様な移民を受け入れていることを教えてもらいました。ア～エの中から、ジョンさんが教えてくれた内容として適切なものを1つ選んで、記号を書きなさい。

資料7 F国への地域別移民の移り変わり

調査時にはここにグラフが入る

- ア オセアニア州からの移民の割合が増え続け、2006年には60万人を超えている。
 イ イギリスの植民地だったこともあり、ヨーロッパ州からの移民が増え続けている。
 ウ アジア州からの移民数は、2001年に100万人を超え、2006年には約25%を占めている。
 エ 2006年の移民総数は、1901年の10倍以上になっている。

- 5 下の年表は、小学校の学習内容をふり返る「歴史のとらえ方」の授業で、はるのさんの班が、時代の名称や特色、学習した人物のカードを作り、まとめているものです。これを見て、次の(1)～(3)に答えなさい。

年表

古代	中世	近代	近世
飛鳥	鎌倉	安土・徳川	江戸
・ ・ ・ (省略) ・	室町	徳川	明治
A	武士の政治が始まった時代	武士の政治が安定した時代	近代化が進んだ時代

中社—6

(1) はるのさんの班は、年表にカードを貼るとき、古代、中世、近代、近世のカードを貼る順番を間違えました。年表中で順番を間違えているカードを2つ書きなさい。

(2) はるのさんは、年表を完成させた後、次の2人の人物についてカードをつくり、それぞれが最も活躍した時代に貼りたいたいと考えました。2人の時代の組み合わせとして適切なものを、ア～エから1つ選んで、その記号を書きなさい。

豊臣秀吉 伊藤博文

- ア 豊臣秀吉…室町時代 伊藤博文…江戸時代
- イ 豊臣秀吉…安土桃山時代 伊藤博文…明治時代
- ウ 豊臣秀吉…室町時代 伊藤博文…明治時代
- エ 豊臣秀吉…安土桃山時代 伊藤博文…江戸時代

(3) はるのさんたちは、年表Aのカードに入れる言葉を考えています。他の時代の特色をまとめたカードを参考にして、Aのカードに入れる言葉を書きなさい。

6 資料1、2を見て、次の(1)～(3)に答えなさい。

資料1

()にはもともと男の玉がいたが、その後国内が乱れたので一人の女子を王とした。名を卑弥呼といい、成人しているが夫はおらず、一人の者が國政を輔佐している。…卑弥呼が死んだとき、直径が100歩余りもある大きな墓をつくった。

資料2

調査時にはここに写真が入る

(1) 資料1は、中国の歴史書の一部を要約したもので、日本の誕生時代の終わり頃の様子を表しています。()に当てはまる国名を書きなさい。

(2) 資料1と同じ時代の遺跡として適切なものを、ア～エの中から2つ選んで、その記号を書きなさい。

- ア 青森県 岩宿遺跡
- イ 群馬県 佐野ヶ里遺跡
- ウ 青森県 三内丸山遺跡
- エ 佐賀県 吉野ヶ里遺跡

(3) 資料2がつくられた時代の説明として適切なものを、ア～エの中から1つ選んで、その記号を書きなさい。

- ア 古墳の多くは表面に石がしきつめられ、円筒型や、人物などの形のはにわが置かれた。
- イ 農まけや食物の豊かさをいのに使われたと考えられる土偶がつくられた。
- ウ 社会のしくみも急速に変わり、小さな国々ができ、人々を支配する豪族や王が出現した。
- エ 大陸から移り住んだ人々によって、青銅器や鉄器などの金属器が伝わった。

中社一7

7 表は、「飛鳥時代～平安時代の歩み」の学習をふり返り、あきおさんが学習内容を整理し、まとめたもの一部です。次の(1)～(5)に答えなさい。

表

時代名	政治の中心地	主な人物	政治に関すること	主なできごとや様子など	文化財
飛鳥時代	奈良	中大兄皇子 (A)	七条の憲法 政治制度を整えようとした。		F
奈良時代	奈良	聖武天皇 鑑真	律令政治 (B)	D聖武天皇は、仏教の力にたよって国家を守ろうとした。	G
平安時代	(C)	藤原氏 藤原道長	摂関政治 院元、平治の乱	E藤原道長とその子頼通のころ摂関政治が最も安定した。	H

(1) 表中の(A)～(C)に当てはまる語句の組み合わせとして適切なものを、ア～エの中から1つ選んで、その記号を書きなさい。

- ア 大武天皇 B 遺精使 C 京都
- イ 仏像や経典が百済から朝廷に送られ、仏教が伝わった。 C 鎌倉
- ウ 阿弥陀如来にすがり、死後に極楽浄土へ生まれ変わることを願う浄土信仰がおこった。 B 薬田永年私財法 C 京都
- エ 最澄や空海は、人里はなれた山奥の寺で学習や厳しい修行をした。 B 藤原道真 C 奈良

(2) 下線部Dについて、奈良時代の仏教を説明した文として適切なものを、ア～エの中から1つ選んで、その記号を書きなさい。

- ア 行基が一般の人々の間で布教し、人々とともに橋や用水路をつくった。
- イ 仏像や経典が百済から朝廷に送られ、仏教が伝わった。
- ウ 阿弥陀如来にすがり、死後に極楽浄土へ生まれ変わることを願う浄土信仰がおこった。
- エ 最澄や空海は、人里はなれた山奥の寺で学習や厳しい修行をした。

(3) 下線部Eについて、当時の東アジアの状況を表す地図として適切なものを、ア～ウの中から1つ選んで、その記号を書きなさい。

ア

ウ

イ

調査時にはここに7世紀半ばの東アジアの地図が入る

調査時にはここに11世紀の東アジアの地図が入る

調査時にはここに5世紀の東アジアの地図が入る

(4) 平安時代の政治の様子をカードにして、下のようにならねました。このカードを年代の古い順に、その記号を書きなさい。

- ア 平清盛は、武士として初めて太政大臣となった
- イ 桓武天皇が混乱した政治を立て直そうとした。
- ウ 白河天皇が退位後も上皇として政治を行った。

中社一8

(5) 表中のF～Hの文化財として適切でないものを、ア～エの中から1つ選んで、その記号を書きなさい。

ア 調査時にはここに正倉院の写真が入る

イ 調査時にはここに東大寺南大門の写真が入る

ウ 調査時にはここに広隆寺弥勒菩薩像の写真が入る

エ 調査時にはここに平等院鳳凰堂阿彌陀如来像の写真が入る

8 資料1は鎌倉時代の学習を終えて、あきおさん、はるのさん、なつみさんが学習したことをふり返って話し合っている内容です。次の(1)～(3)に答えなさい。

資料1

あきお：鎌倉時代の学習で何か印象に残っているものはあるかな。

はるの：私は北条時子(きたのときこ)が家臣に訴えた内容が印象に残っているよ。

なつみ：それは、承久(じやうきゆう)の乱(らん)のときだったわね。この乱の後、幕府に反発する勢力を監視するために、()という役職(やくしやく)が置かれたよね。

あきお：僕は、この時代に広まった新しい仏教(ぶつこう)に興味をもったよ。

なつみ：この時代の仏教の教えは()から多くの人々に広まっていったんだね。

(1) 資料1中の()に当てはまる語句を、資料2中のア～エの中から1つ選んで、その記号を書きなさい。

(2) 鎌倉時代の仏教の教えが多くの人々に広まったのはなぜでしょうか。資料1の()に当てはまる短文を書きなさい。

(3) 資料2中の執権(しやくけん)の職(しやく)についていた北条時時(きたのときとき)が、武士の社会(しやかい)で行われていた慣習(かんじやく)にもとづいて1232年に定めた法律(ほりう)の名称(めいじやく)を書きなさい。

資料2 鎌倉幕府のしくみ

中社—9

9 室町時代についての資料1～3を見て、次の(1)～(3)に答えなさい。

資料1 借金帳消し置音

調査時にはここに奈良市にある岩に彫られた借金帳消し宣言文の写真が入る

資料1の説明
農民が起こした()のとき、「1428年以前の借金は神戸(かた)か郷(ごう)では帳消しにする。」と農民の訴えが岩に彫られている。

資料2 田植えの風景

調査時にはここに月次風俗図屏風の写真が入る

資料3 東求堂(とうきゅうどう)仁齋(にさい)

調査時にはここに写真が入る

- (1) 資料1の説明内の()にあてはまる語句をア～エの中から1つ選んで、その記号を書きなさい。
- ア 干瀬(かわぞ) イ 土一揆(どいつがい) ウ 前幕(まへまくら) エ 倭寇(わこく)
- (2) 資料2を参考にして、室町時代の農業を説明した文章として適切なものをア～ウから1つ選んで、その記号を書きなさい。
- ア 牛や馬が利用され、草や木を焼いた灰(はい)が肥料として使われ、二毛作(にけうさく)も行われるようになった。
- イ 鉄製の農具が各地に広まり、稲の収穫が増えたと、人口が増加していったため、しだいに口分田(くぶんでん)が不足した。
- ウ 肥料に牛馬のふんや糞(くそ)を使おうようになった。また、有力な農民を中心に惣(そう)という自治組織(じやくし)がつくられた。
- (3) 資料3のように、寺院の部屋の様式(ようしき)を武家の住居(ぢゆう)に取り入れていた建築様式(けんちくようしき)を何(なに)というか、書きなさい。

中社—10