

(全15枚中の1枚目)

③ 高等学校 地理歴史

(解答は、すべて解答用紙に記入すること)

1 次の文章を読んで、下の(1)～(9)に答えなさい。

現代の調味料で代表的なものとして塩があるが、人類の歴史との関わりは深い。

中国では、塩の専売が重要な財源となり、前漢の武帝以来、明末^aまで国家の専売品であった。前漢の武帝は、対外戦争などによる財政難の打開策の一つとして、塩の専売制^bを行った。また、唐では、塩の密売者は厳しく取り締まられた。9世紀に塩の密売人が起こした(①)の乱は全国に広がり、10世紀の初めに節度使^cの(②)により、唐は滅ぼされた。

ドイツ北部の都市リューベック^dは、12世紀に東方植民^eの基地として建設された。13世紀から15世紀に、塩漬けニシンなど北海・バルト海交易で繁栄した。この都市を盟主とした(③)同盟は、14世紀に北ヨーロッパ商業圏を支配し、共同で武力を用いるなど大きな政治勢力となった。

西アフリカでは、サハラ砂漠に産する岩塩とニジェール川流域に産する金を用いた交易を背景に、ガーナ・マリ・ソンガイ王国が繁栄し、イスラーム世界に大量の金を供給した。14世紀のマリ王国最盛期の(④)王は、メッカ巡礼の途上、大量に金を使って、カイロに都をおくイスラーム教国の金相場^fを大暴落させた。

現代史で塩と関連する出来事として、1930年にインドでガンディーが組織した塩の行進^gがある。ガンディーは、生活必需品である塩への課税を植民地支配の象徴ととらえ、法をおかして塩づくりをおこなうことでイギリスの植民地支配に抵抗した。第二次世界大戦後の1947年にインド独立法が制定されると、インドは、ヒンドゥー教徒を主体とするインド連邦^hとイスラーム教徒によるパキスタンの2国にわかれて独立したが、ヒンドゥー・イスラーム両教徒の対立はその後もおさまらず、1948年にガンディーは急進的ヒンドゥー教徒に暗殺された。

(1) ①～④に適する語句又は人物名を書きなさい。

(2) 下線部aについて述べた文として適切なものを、次のア～カからすべて選び、記号で答えなさい。

- ア 農村では全国的人口調査を基礎に里甲制を実施し、租税台帳や土地台帳を整備した。
- イ 王安石が宰相となり、一般に新法とよばれる改革を行った。
- ウ ロシアとネルチンスク条約、キャフタ条約を締結して、国境と交易などに関する取り決めを結んだ。
- エ 欧米諸国との貿易を広州一港に限定し、公行を中心に対外貿易を請け負わせた。
- オ イスラーム天文学の知識に基づき郭守敬が授時暦をつくり、江戸時代に作成された貞享暦の基礎となった。
- カ 王守仁が、南宋の陸九淵の思想を継承し、陽明学を確立した。

(3) 下線部bについて、前漢の武帝が塩以外で専売制としたものを、1つ書きなさい。


(全15枚中の2枚目)

③ 高等学校 地理歴史

(解答は、すべて解答用紙に記入すること)

(4) 下線部cに関連して、宋の太祖は節度使の権力を奪い、文官優位の国家体制を樹立しようとした。右の資料は宋代で実施された殿試の場面を表したものである。合格した官僚と君主の結びつきが強まることになった、この試験の特徴について説明しなさい。

資料




(5) 下線部dにある建築物を、次のア～エから1つ選び、記号で答えなさい。

ア

イ

ウ

エ



(6) 下線部eに関連して、14世紀にドイツ騎士団の入植を奨励して経済を発展させた、ポーランド王国の国王名を書きなさい。

(7) 下線部fに関連して、メッカ・メディナの両聖都を保護下におさめた、この王朝の第5代スルタン名を書きなさい。

(8) 下線部gの後に、インドでおこった出来事として適切なものを、次のア～エから1つ選び、記号で答えなさい。

ア ローラット法の制定 イ 新インド統治法の制定 ウ インド共産党の成立 エ インド国民会議の成立

(9) 下線部hに関連して、1950年にインド憲法が制定されてインド共和国が成立すると、初代首相に就任し、非同盟外交の担い手として国際社会で活躍したのは誰か、人物名を書きなさい。

(全15枚中の3枚目)

③ 高等学校 地理歴史

(解答は、すべて解答用紙に記入すること)

2 次の文章を読んで、下の(1)～(9)に答えなさい。

動物と人間の関係は、世界史において深いものであった。

牛の家畜化の起源は、約9000年前の西アジアである。古代エジプト^aにおいては、犁耕のほか、麦の脱穀にも牛が利用された。中国においては、春秋時代^b中期以降、(A)製農具の使用や牛耕が始まって農業生産力が高まった。また、インドにおいてはシヴァ神の乗り物である牛は神聖視されており、ヒンドゥー教徒は現在も牛を食べることはない。

馬は、約6000年前の南ヨーロッパで家畜化された。他の家畜より移動速度が速く、アケメネス朝やモンゴル帝国の駅伝制を支えた。古代オリエントのヒッタイトは、馬と二輪の軽戦車と鉄器で勢力を誇った。中央ユーラシアの草原地帯の人々は、前4千年紀頃から家畜として飼養し、前9～前8世紀頃には、青銅製の馬具や武器をもった騎馬遊牧民が草原地帯に登場した。文献史料のうえで知られる最初の遊牧国家は、前7世紀頃南ロシアの草原地帯を支配した(B)である。騎馬遊牧民族国家の原形をつくったのが(B)と匈奴である。

羊は、約12000年前の西アジアで家畜化され、食用、衣料、袋や羊皮紙として利用されてきた。中世ヨーロッパでは、フランドル地方^cと北イタリアが、毛織物産地の中心であったが、フランドル地方への羊毛の輸出で利益をあげていたイギリスは、この地方を直接支配しようとするフランスとの間で百年戦争を起こした。イギリスでは、15世紀末以来、領主や地主^dが農地を農民から取りあげて、生垣などで囲んで牧場にする囲い込み^eがすすんで羊毛生産が増大し、毛織物工業が国民産業となった。17世紀以降、インド産の綿織物がヨーロッパに大量に輸出され、人々の衣類は毛織物中心から綿織物中心となっていた。イギリスにおける産業革命は、飛び杼^fを先駆として紡績業や織布業など綿工業で始まった。

毛皮は、絹と同様に富と権力を象徴し、近代ヨーロッパの上流社会では、オコジョやクロテンなどの美しい毛皮が珍重され、需要が高まった。17世紀^gから全シベリアを領土としたロシアにとって、毛皮獣の捕獲が魅力的であり、以後ロシアによるシベリア経営が進んだ。明の支配を受けていた中国の東北地方では、特産品の毛皮や薬用ニンジンなどの需要が高まり、女真諸部が台頭した。そのなかで(C)は、女真を統合し、1616年後金を建て、第2代太宗ホンタイジは国号を清^hと定めた。

(1) A～Cに適する語句又は人物名を書きなさい。

(2) 下線部aについて、1956年スエズ運河の国有化を宣言したエジプトの大統領名を書きなさい。

(全15枚中の4枚目)

③ 高等学校 地理歴史

(解答は、すべて解答用紙に記入すること)

(3) 下線部bについて、次の文Ⅰ、Ⅱの正誤の組み合わせとして適切なものを、下のア～エから1つ選び、記号で答えなさい。

- Ⅰ 列国の主導権を握ろうとした、有力な諸侯を覇者といった。
Ⅱ 周王を無視してみずから王を称する諸侯が増え、諸国間の統一的な秩序はくずれていった。

- ア Ⅰ－正 Ⅱ－正 イ Ⅰ－正 Ⅱ－誤
ウ Ⅰ－誤 Ⅱ－正 エ Ⅰ－誤 Ⅱ－誤

(4) 下線部cが含まれる現在の国家を、次のア～カからすべて選び、記号で答えなさい。

- ア グレートブリテン及び北アイルランド連合王国 イ ドイツ連邦共和国
ウ ベルギー王国 エ オランダ王国
オ スイス連邦 カ フランス共和国

(5) 下線部dについて、イギリスのヘンリ8世が没収した修道院の土地を手に入れ勢力をのぼし、16世紀以降のイギリスの支配階級を形成した地主階級を何というか、カタカナで書きなさい。

(6) 下線部eについて、次の①、②に答えなさい。

① 第1次囲い込み運動について述べた次の文中の()に適する語句を書きなさい。

羊は非常におとなしく、また非常に小食だということになっておりますが、今や〔聞くところによると〕大食で乱暴になり始め、()さえも食らい、畑、住居、都会を荒廃、破壊するほどです。

(トマス＝モア 『ユートピア』)

② 18～19世紀のイギリスでおこなわれた、第2次囲い込み運動の目的について、説明しなさい。

(7) 下線部fを、1733年に発明した人物名を書きなさい。

(8) 下線部gにおこった出来事としてあてはまらないものを、次のア～エから1つ選び、記号で答えなさい。

- ア 三十年戦争 イ 名誉革命 ウ 七年戦争 エ 三藩の乱

(9) 下線部hの最後の皇帝名を書きなさい。

③ 高等学校 地理歴史

(解答は、すべて解答用紙に記入すること)

3 次の(1)～(3)に答えなさい。

(1) 次の文章を読んで、下の①～④に答えなさい。

781年に即位した桓武天皇は仏教政治の弊害を改め、天皇権力を強化するために、784年に平城京から山背国の(A)京に遷都した。ついで794年に平安京に再遷都し、積極的に政治改革を進めた。また、東北地方の蝦夷地域への支配も進め、征夷大將軍に任命された(B)は、802年に胆沢城^bを築き、鎮守府を多賀城からここに移した。しかし、東北地方での戦いと平安京の造営という二大政策^cは、国家財政や民衆にとって大きな負担となった。

① A、Bに適する語句又は人物名を書きなさい。

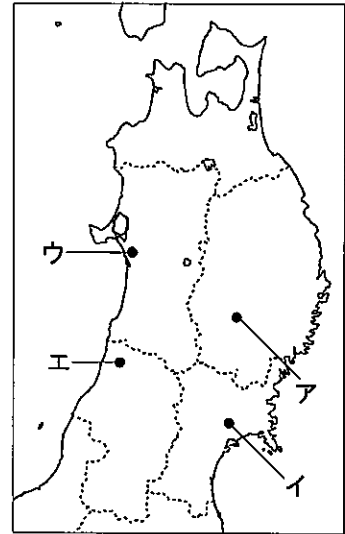
② 下線部aに関連して、桓武天皇がおこなったことについて述べた文として誤っているものを、次のア～エから1つ選び、記号で答えなさい。

- ア 勘解由使を設けて、国司の交替に際する事務の引継ぎをきびしく監督させた。
- イ 天皇の命令をすみやかに太政官組織に伝えるために、秘書官長としての蔵人頭を設けた。
- ウ 東北や九州などの地域を除いて軍団と兵士とを廃止し、かわりに健児を採用した。
- エ 6年ごとの戸籍作成にあわせて6年1班であった班田の期間を12年(一紀)1班に改めた。

③ 下線部bの場所を、右の略地図中のア～エから1つ選び、記号で答えなさい。

④ 次の史料は下線部cに関する議論の一部である。史料の内容について述べた下の文Ⅰ～Ⅳのうち、正しいものの組み合わせを、下のア～エから1つ選び、記号で答えなさい。

略地図



- Ⅰ 菅野真道は東北地方での戦いを停止し、平安京の造営は継続するべきだと主張した。
- Ⅱ 藤原緒嗣は東北地方での戦いと平安京の造営という二大政策を停止するべきだと主張した。
- Ⅲ 桓武天皇は藤原緒嗣の意見に従い、二大政策を停止した。
- Ⅳ 桓武天皇は菅野真道の意見に従い、東北地方での戦いを停止した。

- ア Ⅰ・Ⅲ イ Ⅰ・Ⅳ ウ Ⅱ・Ⅲ エ Ⅱ・Ⅳ

(全15枚中の6枚目)

③ 高等学校 地理歴史

(解答は、すべて解答用紙に記入すること)

(2) 次の文章を読んで、下の①～③に答えなさい。

鎌倉時代に広がった新仏教は、ただ選_aびとられた一つの道(念仏・題目・禅)によってのみ救いにあずかることができると説き、広く武_b士や庶民にもその門戸を開いた。このような新仏教に刺激され、旧_c仏教側も新たな動きをみせた。

① 下線部 a について述べた文として適切なものを、次のア～エから1つ選び、記号で答えなさい。

- ア 法然は法華経を釈迦の正しい教えとして選んで、題目をとることで救われると説いた。
- イ 道元はすべての人が救われるという念仏の教えを説き、念仏札を配り、踊念仏によって教えを広げた。
- ウ 栄西は密教の祈禱にもすぐれ、公家や幕府有力者の帰依を受けて、のちに臨済宗の開祖と仰がれた。
- エ 一遍はただひたすらに坐禅に徹せよと説き、曹洞宗を広め、越前に永平寺を開いた。

② 下線部 b に関連して、右の資料は武芸の訓練を表したものである。資料

この資料に表されている武芸の訓練の名称として適切なものを、次のア～エから1つ選び、記号で答えなさい。

- ア 流鏑馬 イ 笠懸
- ウ 犬追物 エ 卷狩

③ 下線部 c に関連して、奈良に病人の救済施設北山十八間戸を建て、施療や慈善に尽くした、律宗の僧侶名を書きなさい。

(3) 次の文章を読んで、下の①～③に答えなさい。

戦国大名は、新たに征服した土地などで検_a地をしばしばおこない、農民に対する直接支配の方向が強化された。また、大名は領国内の商工業者を統制し、大きな城や城_b下町の建設などの事業をおこなうとともに、家_c臣団統制や領国支配のための政策も打ち出した。

① 下線部 a について、戦国大名がおこなった自己申告方式による検地の名称を書きなさい。

② 下線部 b について、戦国大名とその城下町の組み合わせとして適切なものを、次のア～エから1つ選び、記号で答えなさい。

- ア 北条氏－府中 イ 今川氏－小田原
- ウ 大友氏－鹿児島 エ 大内氏－山口

③ 下線部 c について、戦国大名が家臣団を組織化するためにおこなったことについて、制度の名称を明らかにしながら、地侍という語を用いて説明しなさい。

(全15枚中の7枚目)

③ 高等学校 地理歴史

(解答は、すべて解答用紙に記入すること)

4 次の(1)、(2)に答えなさい。

(1) 次の史料を読んで、下の①～③に答えなさい。

① 史料について述べた次の文章中のA、Bに適する人物名又は語句を書きなさい。

1858年、アメリカ総領事ハリスはイギリス・フランスの脅威を説いて通商条約の調印を強くせまった。大老(A)は勅許を得られないまま、同年6月に(B)の調印を断行した。

② 史料中の下線部の年におこった、薩摩・会津の両藩が長州藩勢力と急進派の公家三条実美らを京都から追放した出来事を何というか、書きなさい。

③ 史料中の第六条で、日本が相手国に認めた権利について、説明しなさい。

(2) 次の文章を読んで、下の①～③に答えなさい。

1935年以降、関東軍の中国における華北分離工作に対し、中国国民のあいだでは抗日救国運動が高まり、1936年12月の(A)事件をきっかけに、内戦を終結させ、日本への本格的な抗戦を決意した。このような状況の中で、1937年7月7日、北京郊外の(B)付近で日中両国軍の衝突事件が発生した。いったんは現地で停戦協定が成立したが、日本は当初の不拡大方針を変更した。これに対し、国民政府も抗戦の姿勢をとったので、日中戦争に発展した。そして、日本は1938年の首相の声明により、国民政府との交渉による和平の可能性をみずから絶ち切った。

① A、Bに適する語句を書きなさい。

② 下線部aが始まった後に起きた次のア～ウの出来事を、起きた順に並べ替え、その記号を書きなさい。

ア 南部仏印進駐の実行 イ 日独伊三国同盟の成立 ウ 日ソ中立条約の締結

③ 下線部bの首相について述べた文として誤っているものを、次のア～エから1つ選び、記号で答えなさい。

- ア 満州国や中国(南京)の汪兆銘政権などの代表者を東京に集めて大東亜会議を開いた。
- イ 戦争の目的が日・満・華3国連帯による東亜新秩序建設にあることを声明した。
- ウ 節約・貯蓄など国民の戦争協力をうながすため、国民精神総動員運動を展開した。
- エ 一元的な指導のもとで全国民の戦争協力への動員をめざす新体制運動の先頭に立った。

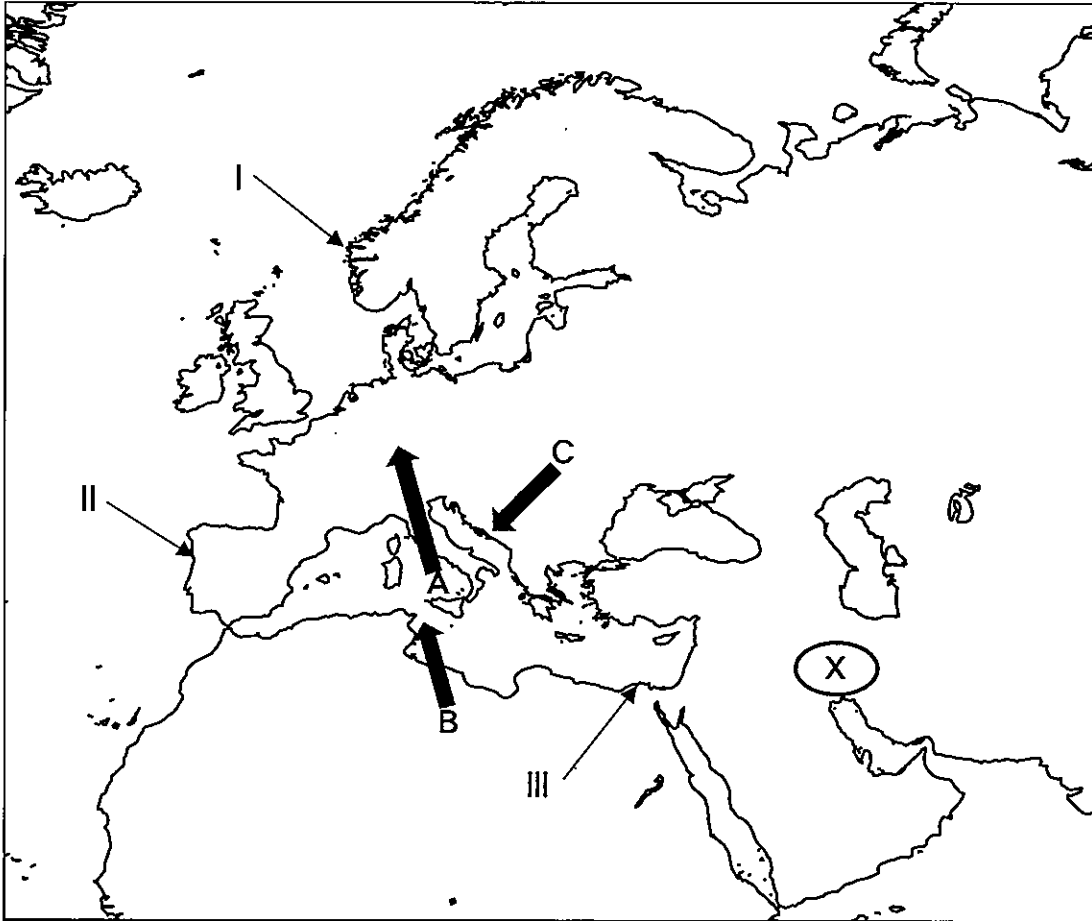
(全15枚中の8枚目)

③ 高等学校 地理歴史

(解答は、すべて解答用紙に記入すること)

5 自然環境について、下の(1)～(4)に答えなさい。

略地図



(1) 略地図中A～Cは、局地風を表したものである。それらを説明した次の文ア～ウの正誤の組み合わせとして適切なものを、下の①～⑧から1つ選び、番号で答えなさい。

- ア Aは、アルプスを越えて吹き下ろす、冷たく乾いたフェーンという局地風である。
イ Bは、砂じんやほこりが多く暖かいシロッコという局地風である。
ウ Cは、アドリア海に吹く、冷たく湿ったボラという局地風である。

	①	②	③	④	⑤	⑥	⑦	⑧
ア	正	正	正	正	誤	誤	誤	誤
イ	正	正	誤	誤	正	正	誤	誤
ウ	正	誤	正	誤	正	誤	正	誤

③ 高等学校 地理歴史

(解答は、すべて解答用紙に記入すること)

(2) 略地図中Ⅰ～Ⅲの地形について述べた、次の文ア～ウの正誤の組み合わせとして適切なものを、下の①～⑧から1つ選び、番号で答えなさい。

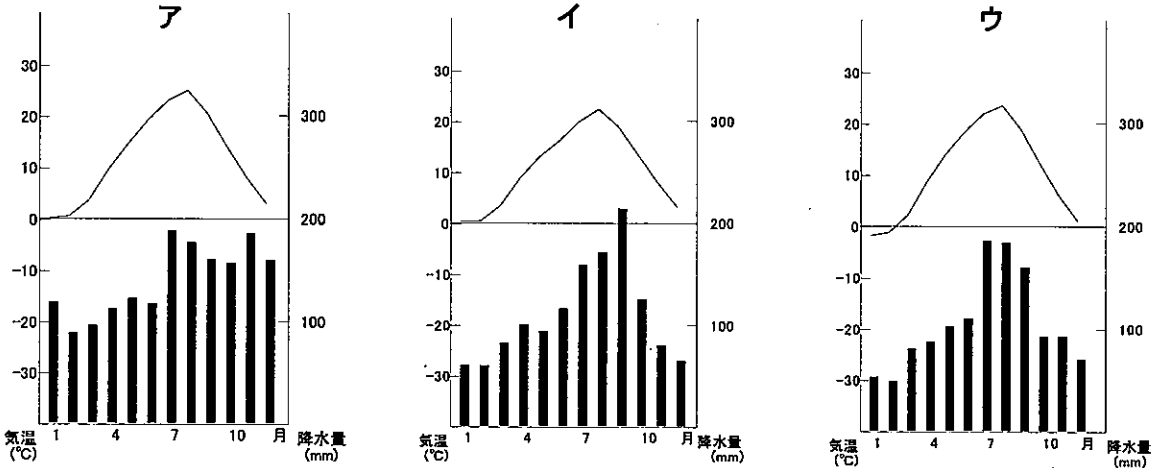
ア Ⅰは、起伏の多い山地が、海面の低下によって生じた細長い入り江である。
 イ Ⅱは、氷食谷が沈降して形成された、のこぎりの歯状の海岸である。
 ウ Ⅲは、土砂の量が多く、波がおだやかで水量の少ない場所に形成された鳥趾状三角州である。

	①	②	③	④	⑤	⑥	⑦	⑧
ア	正	正	正	正	誤	誤	誤	誤
イ	正	正	誤	誤	正	正	誤	誤
ウ	正	誤	正	誤	正	誤	正	誤

(3) 次の文は、略地図中のXの地域で行われている農業について述べたものであり、文章中の①～④には、誤っている語句が2つある。誤っている語句を①～④から2つ選び、番号で答え、誤っている語句を正しい語句に直しなさい。

Xは、乾燥の厳しい地域であるため、外来河川や泉、地下水を利用した灌漑によるオアシス農業が行われている。乾燥地域では、灌漑をしてもすぐに水が蒸発して塩分が溜まってしまうため、水源地から農地まで地下水路を用いて農業用水や生活用水を供給している。地下水路は地域によって名称が異なり、Xの地域ではカレーズと呼ばれる。この地下水を用いて、小麦や野菜が作られているが、特に油やしは乾燥地帯の代表的作物であり、人々にとって重要なビタミン、ミネラル源となっている。

(4) 次の雨温図ア～ウは、盛岡市、宮古市、秋田市のいずれかを表している。雨温図ア～ウと都市名との正しい組み合わせとして適切なものを、下の①～⑥から1つ選び、番号で答えなさい。



	①	②	③	④	⑤	⑥
盛岡市	ア	ア	イ	イ	ウ	ウ
宮古市	イ	ウ	ア	ウ	ア	イ
秋田市	ウ	イ	ウ	ア	イ	ア

③ 高等学校 地理歴史

(解答は、すべて解答用紙に記入すること)

6 消費と流通について、次の(1)～(4)に答えなさい。

(1) 小売業の立地は、取り扱う品目によって異なっている。次の資料は、2014年の日本の小売業の業態別年間商品販売額の構成比を表したものであり、資料中の業態ア～ウは、総合スーパー、専門店、コンビニエンスストアのいずれかである。ア～ウと業態との正しい組み合わせとして適切なものを、下の①～⑥から1つ選び、番号で答えなさい。

資料

業態	立地	年間商品販売額の構成比 (%)								
		商業集積地区					オフィス街 地区	住宅 地区	工業 地区	その他 地区
		駅周辺 型	市街地 型	住宅地 背景型	ロード サイド型	その他				
百貨店		58.4	30.3	2.8	1.6	0.3	6.4	—	0.1	—
ア		22.7	11.3	14.6	27.4	1.7	4.7	6.4	6.6	4.7
イ		11.7	3.7	6.5	1.8	0.5	13.8	30.4	10.6	21.0
ウ		11.2	6.6	7.3	4.6	0.7	14.6	22.1	15.7	17.3

(2020 データブックオブ・ザ・ワールドより作成)

	①	②	③	④	⑤	⑥
総合スーパー	ア	ア	イ	イ	ウ	ウ
専門店	イ	ウ	ア	ウ	ア	イ
コンビニエンスストア	ウ	イ	ウ	ア	イ	ア

(2) 貨物の流通は、産業の立地や取り扱う品目等の条件を踏まえて、最適な手段が選択されている。次の資料は、2018年の日本の主な貿易港における主要貿易品目と金額による輸出入品目の割合を表したものであり、資料中のア～エは、東京港、横浜港、大阪港、関西国際空港のいずれかである。ア～エに該当する貿易港名をそれぞれ答えなさい。

資料

ア

輸出品目	%	輸入品目	%
集積回路	15.0	医薬品	18.4
科学光学機器	7.8	通信機	17.1
電気回路用品	6.7	集積回路	6.0
個別半導体	6.3	科学光学機器	5.1
通信機	3.6	衣類	3.0
金額(億円)	52,660	金額(億円)	39,478

イ

輸出品目	%	輸入品目	%
集積回路	12.3	衣類	15.1
コンデンサー	6.8	肉類	6.7
プラスチック	4.9	家庭用電気機器	3.3
個別半導体	4.0	金属製品	3.0
科学光学機器	4.0	鉄鋼	2.9
金額(億円)	42,427	金額(億円)	49,713

ウ

輸出品目	%	輸入品目	%
自動車部品	6.9	衣類	8.7
コンピュータ部品	5.5	コンピュータ	4.9
内燃機関	5.3	魚介類	4.6
プラスチック	4.5	肉類	4.3
電気回路用品	3.3	音響・映像機器	3.3
金額(億円)	60,398	金額(億円)	116,565

エ

輸出品目	%	輸入品目	%
自動車	22.1	石油	9.1
自動車部品	4.9	液化ガス	5.2
内燃機関	4.3	アルミニウム	4.5
プラスチック	3.6	衣類	3.6
金属加工機械	3.2	有機化合物	3.1
金額(億円)	77,187	金額(億円)	47,538

(2020 データブックオブ・ザ・ワールドより作成)

③ 高等学校 地理歴史

(解答は、すべて解答用紙に記入すること)

(3) 次の資料は、いくつかの国における2018年の1人当たり貿易額、貿易依存度を表したものであり、資料中のア～ウは、中国、韓国、オランダのいずれかである。ア～ウと国名との正しい組み合わせとして適切なものを、下の①～⑥から1つ選び、番号で答えなさい。ただし、中国については、2017年のものである。

資料

国名	1人当たり貿易額 (ドル)		貿易依存度 (%)	
	輸出	輸入	輸出	輸入
日本	5,780	5,859	14.9	15.1
ア	1,605	1,296	18.8	15.2
アメリカ	5,093	8,001	8.1	12.8
イ	12,224	10,038	38.6	31.7
ウ	34,278	30,518	64.1	57.1
インド	240	379	11.9	18.8

(2020 データブックオブ・ザ・ワールドより作成)

	①	②	③	④	⑤	⑥
中国	ア	ア	イ	イ	ウ	ウ
韓国	イ	ウ	ア	ウ	ア	イ
オランダ	ウ	イ	ウ	ア	イ	ア

(4) 次の資料は、いくつかの国における2017年の外国人観光客数、観光収入、国外旅行者数、観光支出を表したものであり、資料中のア～エは、アメリカ、中国、イギリス、フランスのいずれかである。ア～エに該当する国名をそれぞれ答えなさい。

資料

	外国人観光客数 (千人)	観光収入 (百万ドル)	国外旅行者数 (千人)	観光支出 (百万ドル)
ア	60,740	32,617	143,035	257,733
イ	76,941	251,361	87,703	173,919
ウ	86,861	69,894	29,055	50,329
イタリア	58,253	44,548	31,805	27,883
ドイツ	37,452	56,173	92,402	97,597
日本	28,691	36,979	17,889	18,177
エ	37,651	51,474	74,189	71,671

(2020 データブックオブ・ザ・ワールドより作成)

(全15枚中の12枚目)

③ 高等学校 地理歴史

(解答は、すべて解答用紙に記入すること)

7 次の(1)～(3)に答えなさい。

(1) 次の資料は、2018年の主な電子機器の会社別世界シェア上位3社を表したものであり、資料中のア～エは、各会社が本社を置く、日本、アメリカ、中国、韓国のいずれかである。日本と韓国に該当するものを、ア～エの中からそれぞれ選び、記号で答えなさい。

資料

薄型テレビ		スマートフォン		タブレット端末		デジタルカメラ	
会社名(国名)	%	会社名(国名)	%	会社名(国名)	%	会社名(国名)	%
A社(エ)	18.7	A社(エ)	20.8	D社(イ)	29.6	F社(ア)	40.5
B社(エ)	12.2	D社(イ)	14.9	A社(エ)	15.9	G社(ア)	19.1
C社(ウ)	8.0	E社(ウ)	14.7	E社(ウ)	10.0	H社(ア)	17.7
3社計	38.9	3社計	50.4	3社計	55.5	3社計	77.3

(2020 データブックオブ・ザ・ワールドより作成)

(2) 次の資料は、2016年の食料自給率に関して、カロリーベース自給率と生産額ベース自給率がそれぞれ上位の都道府県について表したものであり、資料中のア～エは、北海道、青森県、高知県、鹿児島県のいずれかである。青森県と高知県に該当するものを、ア～エの中からそれぞれ選び、記号で答えなさい。

資料

	カロリーベース自給率			生産額ベース自給率	
	都道府県名	自給率(%)		都道府県名	自給率(%)
1位	秋田県	192	1位	宮崎県	293
2位	ア	185	2位	ウ	264
3位	山形県	139	3位	イ	260
4位	イ	120	4位	ア	209
5位	新潟県	112	5位	岩手県	188
6位	岩手県	103	6位	山形県	168
7位	佐賀県	87	7位	エ	164
7位	ウ	87	8位	熊本県	159

(農林水産省「平成29年度都道府県別食料自給率」より作成)

(3) 次の資料は、合計特殊出生率(2017年)、持ち家住宅率(2013年)、1世帯当たり乗用車保有台数(2019年)、大学等進学率(2018年)を表したものであり、資料中のア～オは、青森県、宮城県、千葉県、東京都、沖縄県のいずれかである。青森県と沖縄県に該当するものを、ア～オの中からそれぞれ選び、記号で答えなさい。

資料

都道府県名	合計特殊出生率	持ち家住宅率(%)	1世帯当たり乗用車保有台数(台)	大学等進学率(%)
ア	1.94	47.9	1.33	39.7
イ	1.43	71.1	1.24	46.9
ウ	1.21	45.6	0.46	64.7
エ	1.34	66.1	1.00	55.7
オ	1.31	57.8	1.32	49.3

(2020 データブックオブ・ザ・ワールドより作成)

(全15枚中の13枚目)

③ 高等学校 地理歴史

(解答は、すべて解答用紙に記入すること)

8 新高等学校学習指導要領(平成30年告示)「地理歴史」について、次の(1)～(3)に答えなさい。

(1) 次の文は、「各科目」の「地理探究」の「目標」の一部である。a～fにあてはまる語句を下の1～21から1つずつ選び、番号で答えなさい。

- (1) 地理に関わる諸事象に関して、世界の空間的な諸事象の(a), 傾向性や、世界の諸地域の地域的特色や課題などを理解するとともに、地図や(b)などを用いて、調査や諸資料から地理に関する様々な情報を適切かつ効果的に調べまとめる技能を身に付けるようにする。
- (2) 地理に関わる事象の意味や意義、特色や相互の関連を、位置や分布、場所、人間と(c)との相互依存関係、空間的相互依存作用、地域などに着目して、(d), 地誌的に、概念などを活用して多面的・多角的に考察したり、地理的な課題の解決に向けて構想したりする力や、考察、構想したことを効果的に説明したり、それらを基に議論したりする力を養う。
- (3) 地理に関わる諸事象について、よりよい社会の実現を視野にそこで見られる課題を(e)に探究しようとする態度を養うとともに、多面的・多角的な考察や深い理解を通して涵養される日本国民としての自覚、我が国の国土に対する愛情、世界の諸地域の多様な(f)を尊重しようとする大切さについての自覚などを深める。

- | | | | | |
|-------------|---------|----------|------------|-------------|
| 1 気候条件 | 2 自然環境 | 3 人文地理的 | 4 土地情報システム | 5 理念 |
| 6 主体的 | 7 系統地理的 | 8 独自性 | 9 対話 | 10 地理情報システム |
| 11 連続性 | 12 概念 | 13 積極的 | 14 自然条件 | 15 伝統文化 |
| 16 風土 | 17 生活文化 | 18 自然地理的 | 19 自主的 | 20 規則性 |
| 21 避難情報システム | | | | |

③ 高等学校 地理歴史

(解答は、すべて解答用紙に記入すること)

(2) 次の文は、「各科目」の「日本史探究」の「内容」の一部である。a～gにあてはまる語句を下の1～21から1つずつ選び、番号で答えなさい。

A 原始・古代の日本と東アジア
(中略)

(3) 古代の国家・社会の展開と (a) (歴史の解釈, 説明, 論述)
諸資料を活用し, (2)で表現した (b)を踏まえ, 課題を追究したり解決したりする活動を通して, 次の事項を身に付けることができるよう指導する。

ア 次のような知識を身に付けること。

(7) 国家の形成と古墳文化, (c)の成立過程と諸文化の形成などを基に, 原始から古代の政治・社会や文化の特色を理解すること。

(1) (d)の展開, 平安期の文化, (e)の変化や武士の出現などを基に, (c)の再編と変容, 古代の社会と文化の変容を理解すること。

イ 次のような思考力, 判断力, 表現力等を身に付けること。

(7) 中国大陸・朝鮮半島との関係, 隋・唐など中国王朝との関係と政治や文化への影響などに着目して, 主題を設定し, (f)の形成と連合, 古代の国家の形成の過程について, 事象の意味や意義, (g)などを多面的・多角的に考察し, 歴史に関わる諸事象の解釈や歴史の (a)などを根拠を示して表現すること。

(1) 地方の諸勢力の成長と影響, 東アジアとの関係の変化, 社会の変化と文化との関係などに着目して, 主題を設定し, 古代の国家・社会の変容について, 事象の意味や意義, (g)などを多面的・多角的に考察し, 歴史に関わる諸事象の解釈や歴史の (a)などを根拠を示して表現すること。

- | | | | | |
|---------|--------|---------|--------|-----------|
| 1 地方支配 | 2 外交関係 | 3 小国 | 4 関連性 | 5 貴族政治 |
| 6 均一性 | 7 推測 | 8 武家政治 | 9 画期 | 10 中央集権国家 |
| 11 院政 | 12 転換 | 13 律令体制 | 14 推移 | 15 村落 |
| 16 予想 | 17 仮説 | 18 集落 | 19 関係性 | 20 幕藩体制 |
| 21 土地制度 | | | | |

(全15枚中の15枚目)

③ 高等学校 地理歴史

(解答は、すべて解答用紙に記入すること)

(3) 次の文は、「各科目」の「世界史探究」の「内容」の一部である。a～gにあてはまる語句を下の1～21から1つずつ選び、番号で答えなさい。

D 諸地域の結合・変容

(中略)

(2) 世界市場の形成と諸地域の結合

諸資料を活用し、(1)で考察した観点を踏まえた問いを基に、課題を追究したり解決したりする活動を通して、次の事項を身に付けることができるよう指導する。

ア 次のような知識を身に付けること。

(7) (a) と環大西洋革命、(b) とナショナリズム、南北戦争の展開などを基に、(c) と近代民主主義社会の形成を構造的に理解すること。

(1) 国際的な(d) と(e) の移動、(f) を中心とした自由貿易体制、アジア諸国の植民地化と諸改革などを基に、世界市場の形成とアジア諸国の変容を構造的に理解すること。

イ 次のような思考力、判断力、表現力等を身に付けること。

(7) 大西洋兩岸諸地域の動向に関わる諸事象の背景や原因、結果や影響、事象相互の関連、諸地域相互のつながりなどに着目し、主題を設定し、諸資料を比較したり関連付けたりして読み解き、(a) や環大西洋革命の意味や意義、(b) とナショナリズムの特徴、(g) 大陸の変容などを多面的・多角的に考察し、表現すること。

(1) 世界市場の形成とアジア諸国の動向に関わる諸事象の背景や原因、結果や影響、事象相互の関連、諸地域相互のつながりなどに着目し、主題を設定し、諸資料を比較したり関連付けたりして読み解き、(e) の移動を促す要因、(f) の覇権の特徴、アジア諸国の変容の地域的な特徴などを多面的・多角的に考察し、表現すること。

- | | | | | |
|-----------|------------|---------|----------|---------|
| 1 技術 | 2 ヴェルサイユ体制 | 3 産業革命 | 4 自由主義 | 5 宗教革命 |
| 6 全体主義 | 7 イギリス | 8 南アフリカ | 9 フランス | 10 主権国家 |
| 11 分業体制 | 12 南北アメリカ | 13 遊牧国家 | 14 人口 | 15 社会主義 |
| 16 国民国家 | 17 農業革命 | 18 労働力 | 19 オセアニア | 20 イタリア |
| 21 権威主義体制 | | | | |