

平成 29 年度県立高等学校入学者選抜学力検査

社 会

注 意


- 1 問題用紙は監督者の「始め」の合図があるまで開いてはいけません。
- 2 問題用紙は表紙を入れて 8 ページあり、これとは別に解答用紙が 1 枚あります。
- 3 受検番号は、検査開始後、解答用紙の決められた欄に記入下さい。
- 4 机の上には、受検票・えんぴつ(シャープペンシルも可)・消しゴム・えんぴつけずり以外の物を置いてはいけません。
- 5 筆記用具の貸し借りはいけません。
- 6 問題を読むとき、声を出してはいけません。
- 7 印刷が悪くて分からないときや、筆記用具を落としたときなどは、だまって手をあげ下さい。
- 8 監督者の「やめ」という合図ですぐにやめ下さい。

答えの書き方

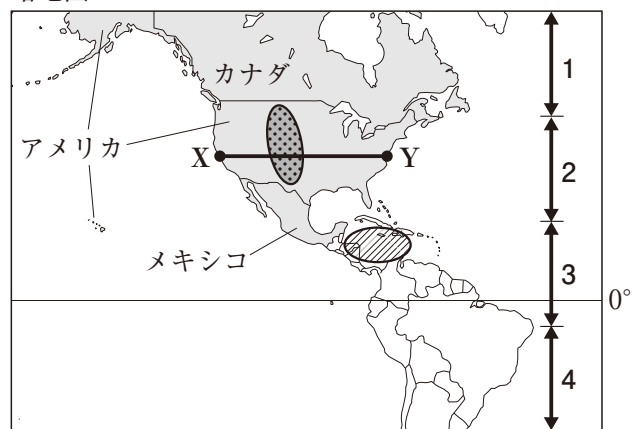
- 1 答えは、問題の指示に従って、すべて解答用紙に記入下さい。
- 2 答えはていねいに書き下さい。答えを書き直すときは、きれいに消してから書き下さい。

1 下の略地図や資料を見て、次の(1)～(4)に答えなさい。(15点)

(1) 日本の国土の南北の範囲とおよそ同緯度の範囲を表すものとして最も適切なものを、略地図中の1～4の中から一つ選び、その番号を書きなさい。

(2) 略地図中のおもにで発生し、西インド諸島、メキシコ湾岸から大西洋沿岸をおそう熱帯低気圧を何というか、書きなさい。

略地図



(3) 資料1は、カナダ、アメリカ、メキシコ、日本の各国の人口、穀物自給率、1人あたりの国民総所得を表している。このうち、カナダと日本について表しているものを、資料1中の1～4の中からそれぞれ一つ選び、その番号を書きなさい。

資料1

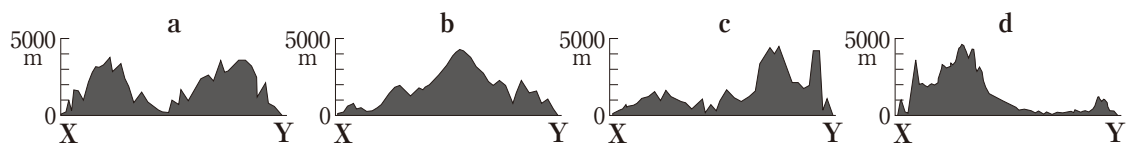
	人口 (万人)	穀物自給率 (%)	1人あたりの国民総所得 (ドル)
1	32412	125	55794
2	3629	180	49376
3	12632	26	37765
4	12863	69	9979

〔世界国勢図会 2016/17〕などによる

(4) 略地図中のアメリカについて、次のア～エに答えなさい。


ア アメリカに、メキシコなどからやってきたスペイン語を話す移民を何というか、書きなさい。

イ 略地図中のX—Yの断面を模式的に表すものとして最も適切なものを、次のa～dの中から一つ選び、その記号を書きなさい。



ウ アメリカの、ほぼ北緯37度より南にある温暖な地域は、コンピューターなどのハイテク（先端技術）産業やインターネットに関連した情報技術産業などが発達している。このような地域を何というか、カタカナ5字で書きなさい。

資料2

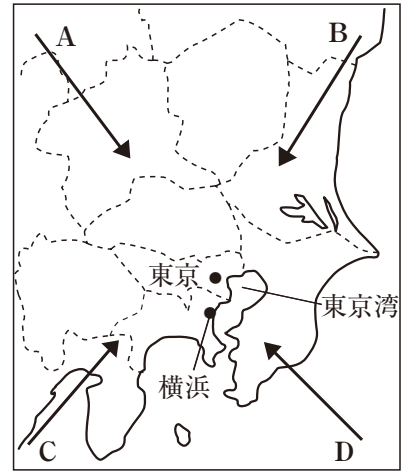
エ 資料2は、略地図中ののグレートプレーンズで行われている、センターピボット方式の大規模なかんがい農業の様子を表している。資料2を参考にして、この農業の特色について、書きなさい。

2 下の略地図や資料を見て、次の(1)～(3)に答えなさい。(13点)

(1) 略地図中の関東地方について、次のア～エに答えなさい。

- ア 関東地方の台地をおおっている、火山灰が堆積した赤土を何というか、書きなさい。
- イ 関東地方に冬にふく「からっ風」と呼ばれる乾燥した風のふく方向を表す矢印として適切なものを、略地図中のA～Dの中から一つ選び、その記号を書きなさい。
- ウ 東京や横浜などの大都市で、都市化の進展にともなう環境の変化から、都市部の気温が周辺部より高くなる現象を何というか、書きなさい。
- エ 東京湾の臨海部にある、京浜工業地帯や京葉工業地域について述べた文として最も適切なものを、次の1～4の中から一つ選び、その番号を書きなさい。

略地図

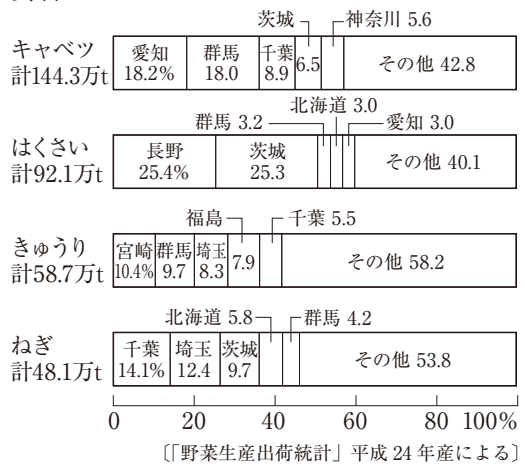


- 1 液晶パネルや太陽電池などを生産する工場がつくられており、この地域は「パネルベイ」と呼ばれている。
- 2 工業原料の輸入に適した地域に、石油化学コンビナートや製鉄所、火力発電所、製粉工場などの大工場が立ち並んでいる。
- 3 1960年代以降、鉄鋼の生産量がおおはばに減り、I C (集積回路) や自動車の工場を誘致し、機械工業への転換を図ってきた。
- 4 地元で生産された牛乳をバターやチーズに加工する工場や、現地の木材を使用した製紙工場などがある。

(2) 資料1は、おもな野菜の生産量の都道府県別割合を表している。資料1から読みとることができる内容として適切なものを、次の1～4の中から一つ選び、その番号を書きなさい。

- 1 千葉県のカブツの生産量は約20万tである。
- 2 はくさいの生産量上位5道県のうち、関東地方の県の生産量をあわせた割合は、全体の生産量の50%をこえる。
- 3 茨城県は、カブツの生産量よりねぎの生産量の方が少ない。
- 4 埼玉県の、きゅうりとねぎそれぞれの全体の生産量にしめる割合をくらべると、きゅうりの方が高い。

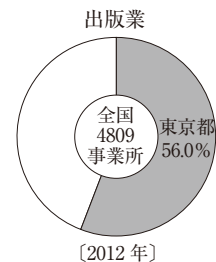
資料1



(3) 資料2は、全国の出版業の事業所数における東京都がしめる割合を表している。東京都の割合が高い理由を、次の2語を用いて書きなさい。

首都 情報

資料2



〔住民基本台帳人口要覧〕平成25年版などによる

3 下のA～Dは、さまざまな時代における人々の様子を表したカードである。次の(1)～(5)に答えなさい。(17点)

A 平安時代
 寺社は、上皇に保護されたので多くの荘園をもち、
 ㊸武装する僧をかかえて勢力を広げた。

B 鎌倉時代
 寺社の門前や交通の便利などところには、㊹月に三度の市が開かれていた。店先には、米や布などの商品が並べられていた。

C 室町時代
 近江(滋賀県)の大津など、交通のさかんなところでは、年貢や各地の特産物などを馬で運ぶ馬借が活動していた。

D 江戸時代
 全国の商業や金融の中心地である大阪は「(㊺)」と呼ばれ、諸藩は蔵屋敷において、米や特産物を販売していた。

(1) Aについて、次のア、イに答えなさい。

ア ㊸を何というか、書きなさい。

イ この時代、平清盛は武士としてはじめて太政大臣となり、政治の実権をにぎった。平清盛が行ったことについて述べた下の文中の に入る適切な内容を書きなさい。

平清盛は ために、兵庫(神戸市)の港を整備した。

(2) Bについて、次のア、イに答えなさい。

ア ㊹を何というか、書きなさい。

イ 資料1は、この時代、執権政治を進めるために、北条泰時が定めた法律の一部である。資料1中の(X)にあてはまる職を何というか、漢字で書きなさい。

資料1

一 諸国の(X)の職務は、頼朝公の時代に定められたように、京都の御所の警備と、謀反や殺人などの犯罪人の取りしまりに限る。

(3) Cについて、この時代の様子について述べた文として最も適切なものを、次の1～4の中から一つ選び、その番号を書きなさい。

- 1 市では、日本でつくられた最初の銅銭である富本銭が使われた。
- 2 都市では、米の買いしめをした商人に対する打ちこわしが起こった。
- 3 土倉や酒屋、商人や手工業者は同業者ごとに座と呼ばれる団体をつくった。
- 4 百姓には、土地を持つ本百姓と土地を持たない水のみ百姓の区別があった。

(4) Dについて、次のア、イに答えなさい。

ア (㊺)にあてはまる語を書きなさい。

資料2

イ この時代の幕府が行ったことと、それに関わった人物の組み合わせとして適切なでないものを、次の1～4の中から一つ選び、その番号を書きなさい。

- | | |
|---------------|-----------------|
| 1 大政奉還—徳川綱吉 | 2 参勤交代の制度化—徳川家光 |
| 3 目安箱の設置—徳川吉宗 | 4 株仲間の解散—水野忠邦 |

(5) 資料2は、運慶が制作した彫刻作品の写真である。この作品が制作された時代と同じ時代の様子を表したカードとして最も適切なものを、A～Dの中から一つ選び、その記号を書きなさい。

4 下の年表や資料を見て、次の(1)～(7)に答えなさい。(15点)

(1) ㉞ _____ の憲法を学び、大日本帝国憲法の草案を作成した人物を、次の1～4の中から一つ選び、その番号を書きなさい。

- 1 伊藤博文 2 板垣退助
3 大久保利通 4 大隈重信

(2) 資料1は、㉟ _____ の翌年に、日本と朝鮮の間で結ばれた条約の一部である。この条約を何というか、書きなさい。

(3) ㊱ _____ と同じ年に、日本は大正時代となった。この時代の日本の様子について述べた文として適切でないものを、次の1～4の中から一つ選び、その番号を書きなさい。

- 1 平塚らいてうが新婦人協会を設立した。
2 日本で最初のメーデーが行われた。
3 吉野作造が民本主義を唱えた。
4 太陽暦が採用された。

(4) 資料2は、1927年から1935年までの、おもな国の鉱工業生産指数を表したものである。㊲ _____ のあとも、ソ連の生産指数が増加し続けた理由について述べた下の文中の _____ に入る適切な内容を書きなさい。

ソ連は、1928年から _____ ため、鉱工業生産指数が増加し続けた。

(5) ㊳ の時期に起こったできごとを示した、次のア～エを年代の古い順に並べ、その記号を書きなさい。

- ア 日本とソ連が日ソ中立条約を結んだ。
イ 広島と長崎に原子爆弾が投下された。
ウ 日本、ドイツ、イタリアが日独伊三国同盟を結んだ。
エ ミッドウェー海戦において日本軍が敗北した。

(6) ㊴ _____ の年をふくむ1955年から1973年までの間、技術革新が進み重化学工業を中心に産業が発展し、日本の経済は年平均で10%程度の成長を続けた。この経済発展を何というか、書きなさい。

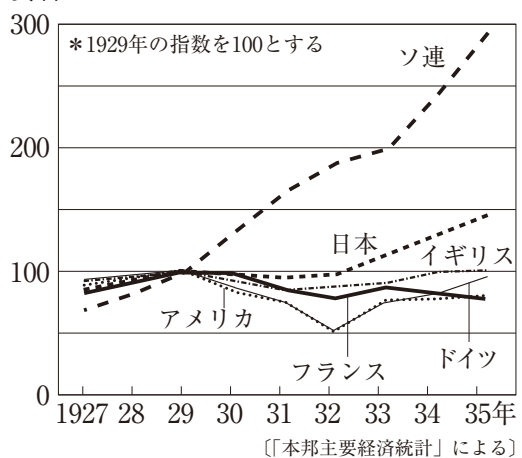
(7) (㊵) は、日本をふくむ世界の主要な先進国の首脳が参加した会議で、以後、毎年1回開催され、国際協調が進められてきた。この会議を何というか、カタカナで書きなさい。

年	おもなできごと
1871年	㉞ ドイツが帝国として統一される
1875年	朝鮮で㉟ 江華島事件が起こる
1912年	㊱ 中華民国が成立する
1914年	第一次世界大戦が始まる
1929年	アメリカで㊲ 世界恐慌が起こる
1939年	第二次世界大戦が始まる
	↑ ㊳ ↓
1945年	日本がポツダム宣言を受け入れる
1964年	㊴ 東京オリンピックが開催される
1975年	(㊵) がはじめて開催される

資料1

第1条 朝鮮国は自立した国であり、日本国と平等の権利を持っている。…
第10条 日本国の人民が、朝鮮国の開港地に在留中に罪をおかし、朝鮮国の人民と交渉が必要な事件は、すべて日本国の領事が裁判を行う。
第11条 両国は、別に通商に関するきまりを定め、両国の商人の便を図る。これから6か月以内に両国別に委員を任命し、話し合う。

資料2



5 下は、ある生徒が社会科の授業で学習したことをまとめたカードである。次の(1)～(6)に答えなさい。(14点)

<p>新しい人権 産業の発達や科学技術の発展、情報化の進展などともなっていて、㉞日本国憲法に直接的には規定されていない㉟「新しい人権」が主張されるようになった。</p>	<p>司法制度改革 人々が利用しやすい㉡裁判制度にするために、司法制度改革が進められてきた。その一環として、2009年から㉢裁判員制度が始まった。</p>	<p>行政の仕組みと内閣 日本では、㉤内閣と国会の関係において、㉦議院内閣制を採用している。議院内閣制を採る多くの国では、国民は議会の議員を選び、その議会在行政の中心となる首相を選ぶ。</p>
--	---	--

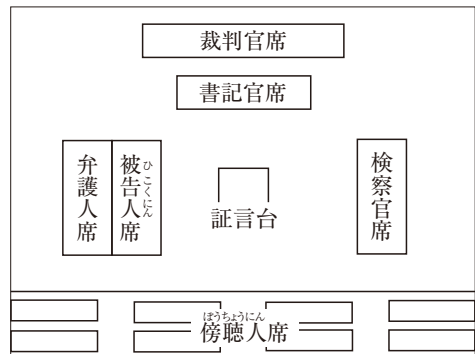
(1) ㉞の改正について述べた下の文章中の(A)にあてはまる語として適切なものを、次の1～4の中から一つ選び、その番号を書きなさい。

憲法改正原案が国会に提出されると、衆議院と参議院で審議される。それぞれの総議員の(A)以上の賛成で可決されると、国会は国民に対して憲法改正の発議をする。その後、その改正案について、国民投票が行われ、有効投票の過半数の賛成を得ると、憲法が改正される。

- 1 3分の1 2 3分の2 3 4分の1 4 4分の3

(2) ㉟の一つに、個人が自分の生き方や生活の仕方について自由に決定する自己決定権がある。この自己決定権の観点から、医療において、医師が十分な説明や情報を与えたうえで、患者が治療方法などに同意することを何というか、カタカナで書きなさい。

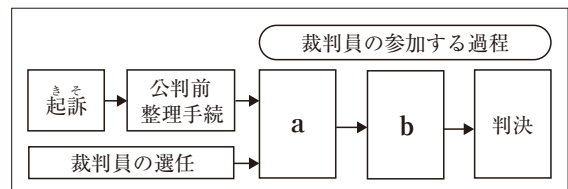
資料1



(3) 資料1は、ある地方裁判所で㉡が行われる法廷の様子を表している。これは、民事裁判と刑事裁判のどちらを表しているか、また、そのように考えた理由を書きなさい。

(4) 資料2は、㉢による裁判の手続きを表している。資料2中のa、bにあてはまる語の組み合わせとして適切なものを、次の1～4の中から一つ選び、その番号を書きなさい。

資料2



- 1 a—再審 b—審理
2 a—審理 b—再審
3 a—評議 b—審理
4 a—審理 b—評議

(5) ㉤が、政府の方針を決定する会議を何というか、書きなさい。

(6) ㉦における内閣と国会の関係を、「内閣は、」に続けて、次の2語を用いて書きなさい。

信任 連帯

6 下は、ある雑誌に掲載された大学生の生活に関する内容の一部である。次の(1)～(6)に答えなさい。(13点)

【ある大学生の1日】

時刻	行ったこと
7時	起床
8時	㉞テレビのニュース番組を見る
9時	授業で㉟労働基準法について学ぶ
13時	授業で㊱為替相場(為替レート)について学ぶ
15時	図書館で㊲日本の社会保障制度に関するレポートを書く
17時	㊳コンビニエンスストアでアルバイトをする
21時	帰宅

【ある大学生のコメント】

大学では、自分が学びたいことを深く研究することができます。

私は大学で学んだことをいかして、㊴将来の世代の幸福と現在の世代の幸福とが両立できる社会を実現するために、さまざまな社会の課題の解決に向けて、何ができるか、考えていきたいです。

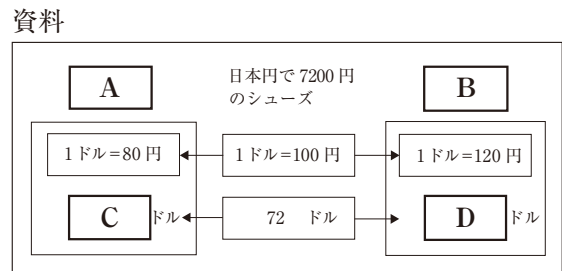
(1) ㉞ _____ などのマスメディアの役割について述べた下の文章中の [] に共通してあてはまる語を、漢字2字で書きなさい。

政治や経済などの問題について、多くの人々によって共有されている意見を [] という。マスメディアは、 [] 調査を実施してその結果を報じている。

(2) ㉟ _____ の内容として適切でないものを、次の1～4の中から一つ選び、その番号を書きなさい。

- 1 使用者は、労働者の状況に関係なく、労働条件を決定しなければならない。
- 2 使用者は、労働者に、休憩時間を除き、週に40時間を超えて労働させてはならない。
- 3 使用者は、労働者に対して、毎週少なくとも1回の休日を与えなければならない。
- 4 使用者は、労働者が女性であることを理由に、賃金について男性と差別をしてはならない。

(3) 下の資料は、日本の通貨(円)とアメリカの通貨(ドル)を交換する比率である㊱ _____ を表している。資料中のA～Dにあてはまる語と数字の組み合わせとして適切なものを、次の1～4の中から一つ選び、その番号を書きなさい。



- 1 A—円安 B—円高 C—60 D—90
- 2 A—円安 B—円高 C—90 D—60
- 3 A—円高 B—円安 C—60 D—90
- 4 A—円高 B—円安 C—90 D—60

(4) ㊲ _____ の四つの柱の一つとして、毎月、保険料を支払い、病気になったり高齢になったりしたときに給付を受ける制度を何というか、書きなさい。

(5) ㊳ _____ など多くの小売店では、POSシステムを導入している。POSシステムとは、どのような仕組みか、管理という語を用いて書きなさい。

(6) ㊴ _____ を何というか、書きなさい。

- 7 下の文章は、ある生徒が中部地方と愛知県についてまとめたものである。これを読んで、次の(1)～(4)に答えなさい。(13点)

㉞中部地方は、日本列島の中央に位置している。また、関東地方と近畿地方の間にあり、大消費地に近いため、さまざまな㉟産業が発達してきた。
愛知県は、㊱尾張地方、三河地方の二地域で構成されている。県庁所在地の㊲名古屋市は、中部地方で人口が最も多い都市である。

- (1) ㉞ _____ について述べた文として適切でないものを、次の1～4の中から一つ選び、その番号を書きなさい。

- 1 福井県鯖江市の眼鏡のフレームづくりは、冬に家の中でできる副業として始まり、国内生産量の約9割、世界の生産量の約2割をしめる産業に発展した。
- 2 山梨県甲府市では、木材加工業などが行われていたが、ピアノや二輪車の生産が発達し、工業がさかんな都市になった。
- 3 愛知県豊田市周辺では、綿花を活用したせんい工業がさかんであったが、1930年代から自動車生産を始め、日本の自動車生産の中心となった。
- 4 岐阜県多治見市では、焼き物に適した土がとれることから、陶磁器やファインセラミックスの生産がさかんになった。

- (2) ㉟ _____ について、資料1は、愛知県で行われている電照ぎく 資料1
の栽培の様子を表している。夜間に照明を当てて栽培を行う目的を、次の2語を用いて書きなさい。

出荷時期 価格

- (3) ㊱ _____ の戦国大名であった織田信長が、1575年に鉄砲を有効に使った戦い方により、甲斐(山梨県)の武田勝頼を破った戦いを何というか、書きなさい。

- (4) ㊲ _____ について、次のア～ウに答えなさい。

ア 資料2の名古屋城は、名古屋市などが保存につとめている文化財である。国が1950年に、文化財の保存と活用について定めた法律を何というか、書きなさい。

イ 資料3は、名古屋市にあった鳴海宿をえがいた「東海道五十三次」の風景画である。この作者を、次の1～4の中から一つ選び、その番号を書きなさい。

- | | |
|------------|---------|
| 1 伊能忠敬 | 2 葛飾北斎 |
| 3 歌川(安藤)広重 | 4 喜多川歌麿 |

資料3

ウ 名古屋市藤前干潟は、2002年に多様な生態系をもつ湿地の保全を目的とした国際的な条約に登録された。この条約を何というか、書きなさい。