

中学校第2学年 社会 調査票

() 組 () 番 氏名 ()

1 略地図と資料1～3を見て、次の(1)～(5)に答えなさい。

資料1 2014 FIFAワールドカップ
グループCの出場国

国名	首都名
日本	東京
コートジボワール	ヤムスクロ
ギリシャ	アテネ
コロンビア	ボゴタ

(1) 赤道を示す線を略地図の [ア]～[エ] から1つ選んで、その記号を書きなさい。

(2) 略地図中の [イ] の海洋名と [ウ] の大陸名を書きなさい。

(3) 資料1の4か国について、略地図から読み取れることとして適切なものを、ア～エから1つ選んで、その記号を書きなさい。

ア 東京から見てブラジリアは、真南に位置している。

イ ブラジリアから最も遠い首都は、東京である。

ウ アテネからボゴタまでの距離とブラジリアからヤムスクロまでの距離は、ほぼ等しい。

エ 南極大陸は、南アメリカ大陸よりも面積が大きい。

(4) 東京に住んでいるたけしさんが、ブラジリアで働いている父に、ブラジリアの8月27日の午後2時に国際電話をかけようとしたが、母は「今すぐ伝える必要がないことなら、今は電話をかける方がいいよ。」と言いました。

母がそう言った理由を、次の【条件】A～Cに基いて、短文で書きなさい。

【条件】

- A 解答欄の書き出しにしたがって、答えること。
- B ブラジリアの標準時の基準となる経線は西経45度、東京の標準時の基準となる経線は東経135度であることを考慮すること。
- C 解答する際はブラジリアの時刻を入れること（サマータイムは考えないものとする）。

中社—1

資料2 キリシヤの石づくりの家

調査時にはここに写真が入る

(5) 次の資料2、3を参考に、ギリシヤの首都アテネの雨温図として適切なものを、ア～エから1つ選んで、その記号を書きなさい。

資料3 アテネの気候の特徴

梅雨はなく、6～8月の夏は暑く、乾燥しています。冬は雨が多く、夜になると気温が下がります。窓が小さくなく、夏は涼しく、冬は暖かいです。

ア	イ	ウ	エ
調査時にはここに雨温図が入る	調査時にはここに雨温図が入る	調査時にはここに雨温図が入る	調査時にはここに雨温図が入る

2 表と地図を見て、次の(1)、(2)に答えなさい。

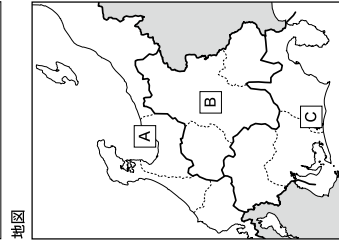
(1) 右の表は、日本とカナダの領土面積と、領海・経済水域の面積を表しています。表から読み取ることができる日本の特徴と同じ特徴をもつ国として正しいものを、ア～エから1つ選んで、その記号を書きなさい。

- ア アメリカ
- イ オーストラリア
- ウ ニューゼーランド
- エ ブラジル

(2) 右は、日本の中部地方とその周辺を表した地図です。中部地方はさらに地図のように [ア]～[エ] のような地域に分けることができます。 [ア]～[エ] の名称の組み合わせとして正しいものを、ア～エから1つ選んで、その記号を書きなさい。

- ア [A]…北陸 [B]…瀬戸内 [C]…山陰 [D]…山陽
- イ [A]…北陸 [B]…中央高地 [C]…東海 [D]…近畿
- ウ [A]…山陰 [B]…東海 [C]…瀬戸内 [D]…北陸
- エ [A]…北陸 [B]…中央高地 [C]…東海 [D]…近畿

表
調査時にはここに表が入る



中社—2

3 乗用車に関する資料1～4を見て、次の(1)、(2)に答えなさい。

資料1 生産上位10か国

調査時にはここに表が入る

資料2 輸出上位5か国

調査時にはここに表が入る

資料4 日本の輸出先上位7か国

調査時にはここに表が入る

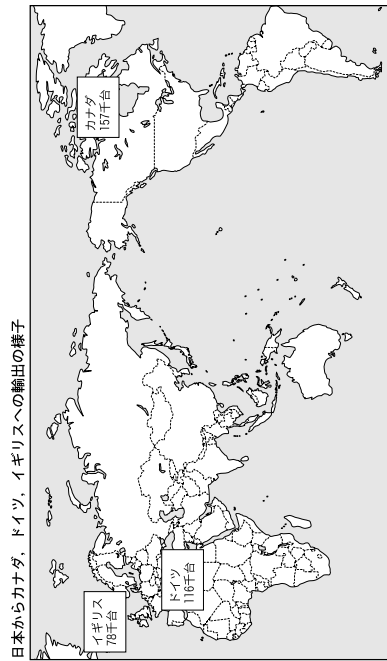
資料3 輸入上位5か国

調査時にはここに表が入る

(1) 資料1～4から読み取れる内容として適切でないものを、ア～オから2つ選んで、その記号を書きなさい。

- ア 生産した台数より、輸入した台数が多いのは、アメリカとフランスである。
- イ 日本の輸出先のうち、太平洋に面している国への輸出の割合は、全体の40%を超える。
- ウ 乗用車の生産台数の3分の1以上が、アジア州で生産されている。
- エ 生産・輸出・輸入とも上位5か国に入るのは、アメリカとドイツだけである。
- オ アメリカの輸入のうち、日本からの輸入は、約20%である。

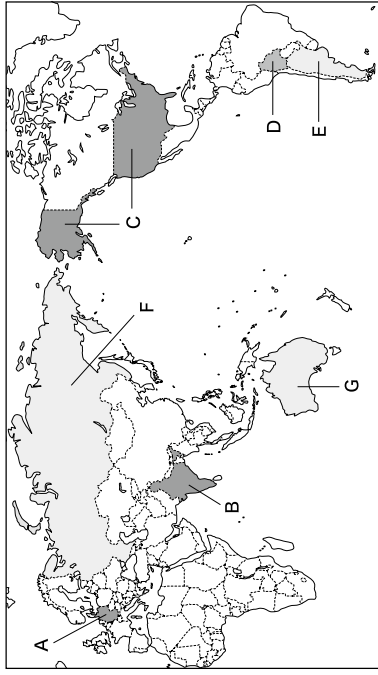
(2) たけしさんは、資料4について、日本からカナダ、ドイツ、イギリスへの乗用車の輸出の様子を下の地図上に表そうとしています。それぞれの国への輸出品の量をより分かりやすくするために、地図中にどんな工夫をすればよいか、簡単に説明しなさい。



中社—3

4 中学生のたけしさんは夏休みの自由研究として、世界の各地域や国々を調べました。世界地図と資料1～9、地図1、2を見て、次の(1)～(6)に答えなさい。

世界地図



(1) たけしさんは、世界のある州について調べ、分かったことを資料1、2のカードにまとめました。この州の名称を書きなさい。

資料1

この州の白地図の一部を入手したところ、緯線・経線を利用した直線の国境線が多いことが分かりました。

資料2

調査時にはここにグラフが入る

この州の4つの国の輸出品を左のグラフで調べたところ、わずかな種類の農産物や鉱産物の輸出によって経済が成り立っていることが分かりました。

(2) たけしさんは、世界地図中A国が加盟しているヨーロッパ連合(EU)について、資料3や資料4を調べました。EUを表しているものを、資料4のア～エから1つ選んで、その記号を書きなさい。

資料3 EUが設立された背景

ヨーロッパでは、国家のわくをこえて経済的に協力する動きが起こりました。その理由は、ヨーロッパの個々の国々は面積や人口規模が小さく、アメリカなどの大国との競争に勝てないと考えたことや、二度とヨーロッパで戦争を起こさないようにと考えたことにあります。

中社—4

資料4 E U, アメリカ, 中国, 日本 の国力比較

調査時にはここにグラフが入る

- (3) たけしさんは、世界地図中B国の面積、人口、宗教の特徴などについて調べ、資料5にまとめました。資料5、6を参考に、B国の多くの人が信仰している宗教を、資料6から抜き出して書きなさい。

資料5 B国の人口・多くの人が信仰する宗教など

調査時にはここに表が入る

資料6 世界の宗教別人口と割合

調査時にはここにグラフが入る

- (4) たけしさんは、世界地図中C国の農業と気候の関係を調べるために、地図1と地図2を読み取ってみたところ、次の……………のようことが分かりました。①～③に当てはまる語句または数字を書きなさい。

地図1 綿花の栽培地域

調査時にはここに地図が入る

地図2 年降水量分布

調査時にはここに地図が入る

棉花は、そのほとんどが(①) 100度より東に、北緯(②) 度より南の位置で、年降水量は主に500mm～(③) mmの地域で栽培されている。

中社—5

資料7 ある山脈の標高と土地利用

調査時にはここに図が入る

- (5) たけしさんは、世界地図中のDの国がある大陸の西部を、南北に連なっている山脈の土地利用について調べ、資料7のようにまとめました。この山脈の名称を書きなさい。

- (6) たけしさんは、世界地図中のE～Gの中のある国の貿易や移民について調べ、資料8、9のグラフにまとめました。その国名を書きなさい。

資料8 ある国の貿易額と相手国の割合

調査時にはここに2つのグラフが入る

資料9 ある国への地域別移民の移り変わり

調査時にはここにグラフが入る

中社—6

5 はるごさんは、飛鳥時代～室町時代に活躍した肖像画や人物像の資料を集め、その人物の立場で、資料をA～Eのカードにまとめました。これを見て、次の(1)～(4)に答えなさい。

A 後醍醐天皇の肖像画	B 聖徳太子と伝えられる肖像画	C 足利義満の肖像画	D 滿濟祖と伝えられる肖像画	E 鑑真的人物像
調査時にはここに肖像画が入る	調査時にはここに肖像画が入る	調査時にはここに肖像画が入る	調査時にはここに肖像画が入る	調査時にはここに写真が入る
私は、政治の専断を幕府から朝廷にとりもどし、新しい政治を行います。新政は2年でくずれました。	私は、推古天皇の摂政となり、新しい国づくりを進めたい。朝廷の内部でも勢力を広げ、大政大臣となりました。	私は、南北朝の動乱をいっさい一掃して、朝廷の内部でも勢力を広げ、大政大臣となりました。	私は、鎌倉に土地を定め、義経を送って、南ノ浦で平兵をほろぼしました。そして、鎌倉幕府を開きました。	私は、日本にわたるようとして何度も遭難し、盲目になりました。道唐使正しい仏教の教えを広めました。

(1) Aの人物が幕府を倒した後に行った政治は批判され、社会は混乱しました。この混乱の様子を知るための資料として適切なものを、次のア～エから1つ選んで、その記号を書きなさい。

ア 早馬。たいしたこともないのに起こる騒動。(中略)下廻上によって成り上がった者……	イ 祇園精舎の鐘の音、諸行無常の響きあり、沙羅双樹の花の色(中略)おこれる人も久しからず、ただ春の夜の夢のごとし。たけき者もついにには滅びぬ。……	ウ 領地の質入れや売置は、御家人の生活が苦しくなるものなので、今後は禁止する。(中略)御家人から買った土地は、売買後の年数にかかわらず、かえさなければならぬ。『永仁の徳政令』
---	--	--

(2) はるごさんは、Bの人物の政治について学習し、次のような学習問題を作り、まともをしました。このまともの中の(X)、(Y)にあてはまる語句を、資料1を参考に、ア～エから1つずつ選んで、その記号を書きなさい。

学習問題	資料1 十七条の憲法
一に曰く、和をもつて實とし、さからう(争)ことなきを宗(第一)とせよ。	資料1 十七条の憲法 一に曰く、和をもつて實とし、さからう(争)ことなきを宗(第一)とせよ。 二に曰く、……(省略)…… 三に曰く、……(天皇の命令)をうけたまわらば(守り)なさい。
まとも: 聖徳太子は(X) 同士の争いを和らげるため、(Y) 中心の政治を目指した。	
ア 將軍 イ 豪族 ウ 武士 エ 天皇	

中社—7

(3) 次の資料2のような文学作品が作られた時代の仏教の動きについて述べた文として適切なものを、ア～エから1つ選んで、その記号を書きなさい。

資料2
春はあけぼの。やうやう白くなりゆく山際、少しあかりて、紫だちたる雲の細くたなびきたる。夏は夜。月の頃はさらなり。闇もなほ、螢のおほく飛びちがひたる。

- ア 飛鳥地方を中心に、日本で最初の仏教文化が栄え、法隆寺が建てられました。
イ 仏教の力によって国家を守ろうと、国ごとに圓分寺と圓分尼寺が建てられました。
ウ 死後に極楽浄土へ生まれ変われることを願う信仰がおこり、平等院鳳凰堂が建てられました。
エ 題目や念仏を唱えること、座禅を組むことなど、分かりやすく、実行しやすい教えが多くの人々の心をとりこみました。

(4) A～Eの人物の中から「中世」の人物を3人選び、活躍した時間の古い順に並べて、その記号を書きなさい。

6 資料1、2と地図を見て、次の(1)、(2)に答えなさい。

資料1	地図 2万年前の日本列島
(1) 資料1は、当時の人類が石を打ち次いで作った、すどい刃を持った道具で、中Aの遺跡で1946年に発見されました。この遺跡として適切なものを、ア～エから1つ選んで、その記号を書きなさい。 ア 岩宿遺跡 イ 三内丸山遺跡 ウ 登呂遺跡 エ 吉野ヶ丘遺跡	調査時にはここに地図が入る

(2) 資料2は、5世紀ごろ後(日本)の王が中国に送ったとされる手紙を分りやすく書いたものです。当時の東アジアの状況を表す地図として適切なものを、ア～エから1つ選んで、その記号を書きなさい。

資料2
わたしの祖先は、自らよろいよかぶとを身につけ、山や川を駆けめぐり、東は55国、西は66国、さらに海をわたって95国を平定しました。しかしわたしの使いが陛下のところに行き物を持っていくのを、高句麗が邪魔をします。今度こそ高句麗を破らうと思いますので、わたしに高い地位をあたえて激励してください。

ア	イ	ウ
調査時にはここに地図が入る	調査時にはここに地図が入る	調査時にはここに地図が入る

中社—8

7 年表、資料を見て、次の(1)～(4)に答えなさい。

年表

西暦(年)	主な出来事
239	卓赤浦が魏に使いを送る
607	小野妹子を隋に送る
645	大化の改新
701	大宝律令
710	都を(A) (現在の奈良)に移す
784	都を(B) (現在の京都)に移す
794	都を(C) (現在の京都)に移す
1185	平氏がほろびる

資料 主な都の移り変わり

調査時にはここに地図が入る

- (1) 年表中の期間に即位した天皇について、即位した年代の古い順に左から並んであるものを、ア～エから1つ選んで、その記号を書きなさい。
 ア 天智天皇→聖武天皇 イ 天武天皇→聖武天皇
 ウ 天智天皇→天智天皇 エ 天智天皇→後三朝天皇→桓武天皇
- (2) 年表中の大化の改新で、土地や人々を国家が直接支配する方針が示されたが、このことを何とよいか書きなさい。

- (3) 年表中(A) (B) (C)に入る都の名称を、それぞれ資料から選んで書きなさい。
- (4) 年表中の天智の期間の政治について、ア～ウを年代の古い順に記号で書きなさい。
 ア 白河天皇は、位をゆすって上皇となったのち、他の勢力をおさえて政治を行った。
 イ 征夷大将軍となった坂上田村麿が東北地方の蝦夷を攻め、朝廷の勢力を広げた。
 ウ 藤原道長・頼通のころ、摂関政治が最も安定し、藤原氏が朝廷の高位地位をほとんど独占した。

8 資料は鎌倉幕府のしくみを示しています。資料を見て、次の(1)、(2)に答えなさい。

- (1) 資料中の守護の主な役割として適切なものを、ア～ウから1つ選んで、その記号を書きなさい。
 ア 将軍の尊厳・朝廷の監視・西日本の武士の統率
 イ 荘園や公領の管理・年貢の取り立て・警察
 ウ 国内の軍事・警察・御家人の統率
- (2) 資料中の執権として北条氏が政治の实権を握っていた時代の出来事として適切なでないものを、ア～エから1つ選んで、その記号を書きなさい。
 ア 将軍の跡継ぎをめぐる、有力な守護大名の細川氏と山名氏が対立し、応仁の乱が起こった。
 イ 幕府の基準等を示した御成敗式目(貞永式目)を定めた。
 ウ 領地の分割相続によって生活が苦しくなった御家人を救うために、徳政令を出した。
 エ 後鳥羽上皇が幕府を倒そうと兵を挙げたが、幕府は大軍を送ってこれを破った。

中社—9

9 資料1～3を見て、次の(1)～(3)に答えなさい。

資料1

甯城地(北海道)では、アイヌ民族が8世紀から狩りや漁、交易を行っていましたが、14世紀になつて青森県の十三邊に根拠地を置く豪族の安藤氏がアイヌの人々との交易を行いました。

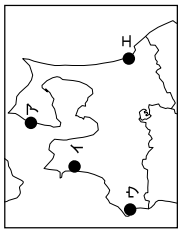
資料2

村のおきて(部分要約)
 一 寄台があることを知らせて二度出席しなかつた者は五十文のぼつをまきたえる。
 一 森林の苗木を切つた者は五百文のぼつをまきたえる。(今彌日吉神社文書)

資料3

15世紀
 代表的な文化財の写真
 室町時代は、……

地図



- (1) 資料1について、文中の下線部の十三邊の位置を右の地図中のア～エから1つ選んで、その記号を書きなさい。
- (2) 室町時代、農村では、有力な農民を中心に村ごとにまとまり、自治組織がつくられ、資料2のような村のおきてを定めました。このような自治組織は何と呼ばれていたか、適切なものをア～エから1つ選んで、その記号を書きなさい。
 ア 座 イ 土着 ウ 惣 エ 間
- (3) 資料3について、室町時代の文化の特色を資料3のようにまとめるとき、代表的な文化財として適切なものをア～ウから、文化の特色の説明として適切なものをA～Cからそれぞれ1つずつ選んで、その記号を書きなさい。
 【代表的な文化財】

ア

調査時にはここに東大寺南大門の写真が入る

イ

調査時にはここに雪舟の水墨画の写真が入る

ウ

調査時にはここに広隆寺弥勒菩薩像の写真が入る

【文化の特色】

A 日本の風土や生活に合った文化が生まれた。
 B 天皇や貴族などを中心に、仏教などの影響を受けた国際的な文化が栄えた。
 C 武家をない手とする簡素で気品のある文化が生まれた。

中社—10